

Adım-Soyadım:.....

Kilogram ağırlık ölçü birimidir. Kısaca "kg", sembolü ile gösterilir.




Kilogram diye okunur. 1 kilogramın yarısına yarım kilogram denir.

1 kilogramda 2 tane yarım kilogram vardır.

Her cismin bir ağırlığı (kütlesi) vardır. Cisimlerin ağırlıklarını bulmak için tartarız.

Aşağıdaki resimleri inceleyelim.

Hangisi kilogram ile ölçülürse altındaki kutuyu kırmızı renge boyayınız.



Ağırlık Ölçüleri Etkinlik Sayfası

Aşağıdaki tabloyu dikkatlice inceleyiniz. Ardından soruları cevaplayınız.

Kişiler	Tartım Sonuçları
Çağlar	İrem Aylin'den 8 kg fazla
Eylül	Çağlar'dan 9 kg eksik
Sait	Eylül'den 2 kg fazla
Umut	Sait'ten 4 kg eksik
İrem Aylin	27 kg
Rabia	Umut'tan 5 kg fazla
Sedef	Rabia'dan 3 kg fazla
Kübra	Sedef'ten 6 kg eksik
Enescan	Kübra'dan 3kg fazla



Sedef

..... kg



Rabia

..... kg



Eylül

..... kg



Kübra

..... kg



Sait

..... kg



Çağlar

..... kg



Enescan

..... kg




Umut

..... kg

Adım-Soyadım:.....

Pazardaki ürünlerin kilogram fiyatlarını inceleyip soruları cevaplayınız.



$$5\text{ kg } \text{Tomato} + 3\text{ kg } \text{Eggplant} = \dots\dots$$

$$8\text{ kg } \text{Carrot} + 6\text{ kg } \text{Cucumber} = \dots\dots$$

$$4\text{ kg } \text{Green Pepper} + 1\text{ kg } \text{Pear} = \dots\dots$$

$$6\text{ kg } \text{Tomato} + 6\text{ kg } \text{Carrot} = \dots\dots$$

$$9\text{ kg } \text{Green Pepper} + 5\text{ kg } \text{Eggplant} = \dots\dots$$

$$1\text{ kg } \text{Cucumber} + 3\text{ kg } \text{Pear} = \dots\dots$$

$$4\text{ kg } \text{Tomato} + 7\text{ kg } \text{Carrot} = \dots\dots$$

$$8\text{ kg } \text{Eggplant} + 5\text{ kg } \text{Green Pepper} = \dots\dots$$

$$2\text{ kg } \text{Cucumber} + 5\text{ kg } \text{Pear} = \dots\dots$$

$$4\text{ kg } \text{Tomato} + 6\text{ kg } \text{Pear} = \dots\dots$$

Umut'un annesi pazardan 4 kg domates, 5 kg salatalık ve 2 kg armut aldı. Pazara gitmeden önce cüzdanında 50₺ vardı. Pazardan eve döndüğünde kaç ₺ si kalmıştır?

Adım-Soyadım:.....

Mini Test

1. Aşağıdaki ürünlerden hangisi kilogramla satılmaz?

- A)  B)  C) 

2. Aşağıdakilerden hangisi kilogramla ölçülür?

- A) kardeşimin boyu B) domates
C) süt

3. Aşağıdakilerin hangisinde tartma aracı bulunmaz?

- A) manav B) market C) kırtasiye

4. Seçeneklerden hangisini, ürünleri tartarken kullanırız?

- A) terazi B) metre C) litre

5. "Pirincin kaç lira?.", ifadesindeki noktalı yere hangi kelime getirilmelidir?

- A) litresi B) kilogramı C) tanesi

6. Seçeneklerdeki ifadelerden hangisi yanlıştır?

- A) 2 kilogram şeftali aldım.
B) 3 kilogram ekmek aldım.
C) 4 kilogram kiraz aldım.

7. Seçeneklerden hangisi tartı aracı değildir?

- A)  B)  C) 

8. "Babam ağırlıklarımızı ölçmek için eve aldı.",

Yukarıdaki noktalı yere hangi kelime getirilmelidir?

- A) metre B) kilogram C) baskül

Asağıdakilerden hangileri kilogramla ölçülür işaretleyiniz.

- Bir torbadaki patatesler
 Kullandığım parfüm
 Elif'in ağırlığı
 Meyve suyum
 Tuğba'nın boyunun uzunluğu
 Marketten aldığımız tavuk eti

Asağıdaki mesleklerden hangilerini yapan kişiler, tartı aletini kullanırlar işaretleyiniz.

- Kumas satan manifaturacı
 Sokağımızdaki manav
 Penceremizin camını takan camcı
 Mahallemizdeki market
 Süt aldığımız sütçü

1 Evimizde 4 paket şeker vardır. Şekerin bir paketi 3 kg'dır. Evimizde toplam kaç kg şeker vardır?

2 Annem pazardan elinde 6 poşet domatesle döndü. Her poşette 5 kg domates olduğuna göre annem pazardan kaç kg domates almıştır?

3 Köyden satmak için 8 çuval fındık geldi. Her çuvalda 10 kg fındık olduğuna göre köyden kaç kg fındık gelmiştir?

4 Furkan 32 kg'dır, Ayşe 29 kg ve Kevser 35 kg'dır. Üçünün toplam ağırlığı kaç kg'dır?

5 1 kilogramı 8 lira olan zeytinin 5 kilogramı kaç lira olur?

6 1 kilo erik 9 liradır. 3 kilogram erik kaç lira olur?

7 Neşe'nin ağırlığı 27 kilogram ve Nimet Ayşe'den 9 kilogram daha ağırdır. Neşe ile Nimet'in toplam ağırlığı kaç kilogramdır?

8 Dedem 80 kilodur. Ben dedemden 45 kilo zayıfım. Ben kaç kiloyum?

9 Fatih, kilo gramı 8 lira olan lokumlardan 2 kilogram aldı. Satıcıya 50 lira verdi. Kaç lira para üstü alması gerekir?

10 Annem 89 babam 96 kg'dır. Babam annemden kaç kg ağırdır?

Kilogram ile İlgili Problemler

1-) Ali 25 kilogram, babası ise 67 kilogramdır. İkinin ağırlıklarının toplam kaç kilogramdır?

2-) Ali 25 kilogram, babası ise 67 kilogramdır. İkinin ağırlıklarının farkı kaç kilogramdır?

3-) Ali 25 kilogram, babası ise 67 kilogramdır. Babası Ali'den kaç kilogram fazladır?

4-) 10 kilogramlık soğan çuvallarından 6 tanesi kaç kilogramdır?

5-) 5 kilogramlık şeker torbalarından 9 tanesi kaç kilogram eder?

6-) Dayım 94 kilogramdı. Rejim yaptı ve 18 kilogram zayıfladı. Dayım şimdi kaç kilogramdır?

7-) Hasan 96 kilogramdı. Rejim yaptı ve 77 kilograma düştü. Hasan kaç kilo vermiştir?

8-) Metin, boşken 3 kilogram gelen kasaya domates koydu. Kasa 25 kilogram geldi. Metin kasaya kaç kilogram domates koydu?

9-) 36 kilogram havucun çeyreğini satarsak geriye kaç kilogramı kalır?

10-) 60 kilogram armudun yarısını satarsak geriye kaç kilogramı kalır?