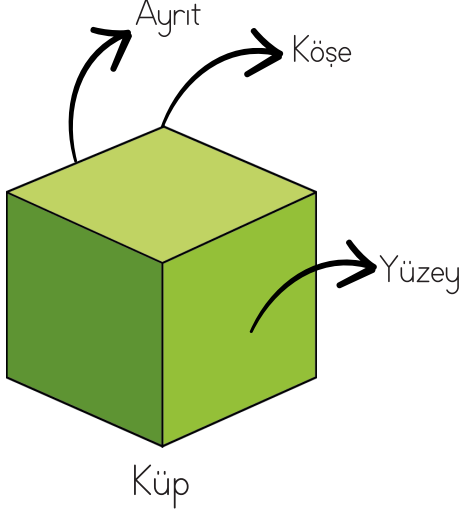


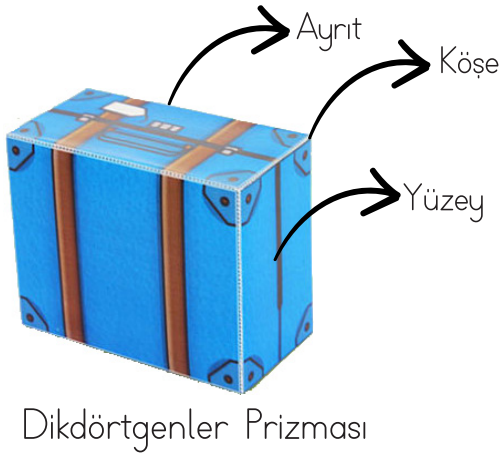

GEOMETRİK CİSİMLERİN YÜZLERİ VE YÜZEYLERİ

● Geometrik cisimleri ve açınımlarını inceleyip noktalı yerleri doldurunuz.



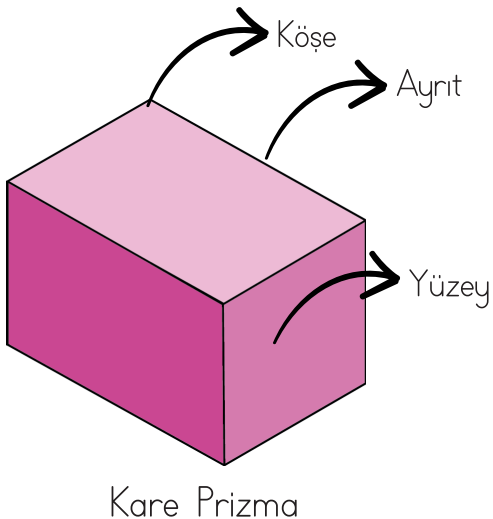
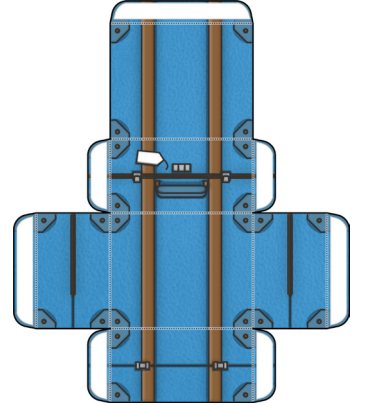
Kimlik Kartı

Köşe Sayısı:
Ayrit Sayısı:
Yüzey Sayısı:
Küpün yüzeyleri
..... bölgedir.



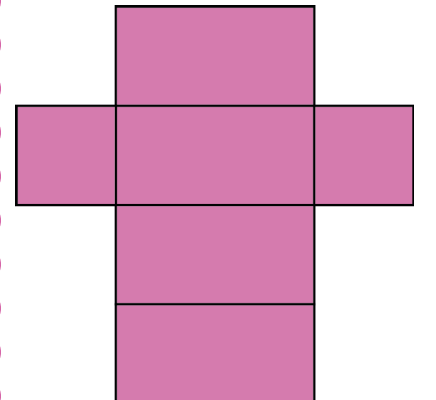
Kimlik Kartı

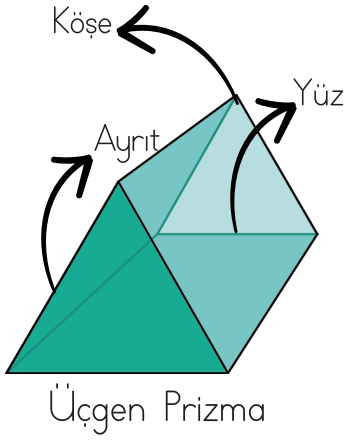
Köşe Sayısı:
Ayrit Sayısı:
Yüzey Sayısı:
Dikdörtgenler
Prizmasının yüzeyleri
..... bölgedir.



Kimlik Kartı

Köşe Sayısı:
Ayrit Sayısı:
Yüzey Sayısı:
Kare prizmanın 2 yüzeyi
..... bölge,
4 yüzeyi
bölgedir.





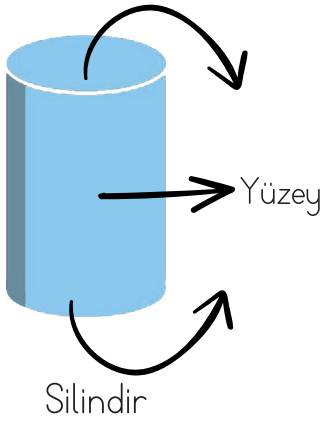

Kimlik Kartı

Köşe Sayısı:

Ayrıt Sayısı:

Yüzey Sayısı:

Üçgen prizmanın 2 yüzeyi bölge, 3 yüzeyi bölgedir.



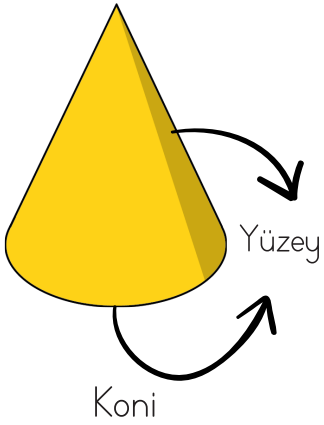
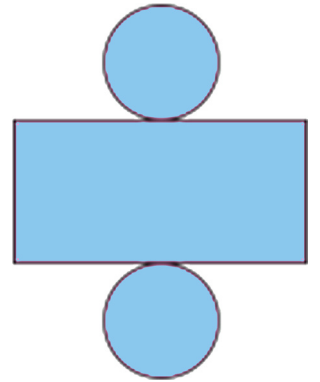
Kimlik Kartı

Köşe Sayısı:

Ayrıt Sayısı:

Yüzey Sayısı:

Silindirin 2 yüzeyi bölge, yan yüzeyin açık şekli bölgedir.





Kimlik Kartı

Köşe Sayısı:

Ayrıt Sayısı:

Yüzey Sayısı:

Koninin 1 yüzeyi bölgedir.



Kimlik Kartı

Köşe Sayısı:

Ayrıt Sayısı:

Yüzey Sayısı:

