
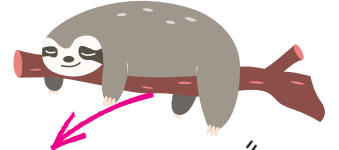


Meraklı Mert  
sizler için araştırıyor.  
Merak edilen pek çok  
konu açıklığa  
kavuşuyor.



Adım-Soyadım:

.....



Adım "tembel hayvan".  
Günde 22 saat uyurum.

## Hayvanlar NASIL Uyur?




Yarasalar  
baş aşağı uyurlar.



Salyangozlar  
kabularının içinde  
uyurlar.



Baykuşlar gece  
avlanabilmek için  
gündüz uyur.



Balıklar gözleri  
açık uyur.  
Çünkü göz  
kapakları yoktur.



Aslan kimseden korkmaz ve horul horul  
uyur. Flamingo tehlike durumunda hemen  
uçmak için tek bacak üzerinde uyur. Zeb-  
ra ve zürafalar da kaçıma hazır bir  
şekilde ayakta uyur.

1- Ayakta uyuyan hayvanlar hangileridir?

Handwritten answer area for question 1.

2- Hangi hayvan gözleri açık uyur?

Handwritten answer area for question 2.

3- Sana göre en ilginç uyuyan hayvan hangisi?

Handwritten answer area for question 3.



Ali Baba'nun çiftliğine hoşgeldiniz.

Bu çiftlikte 8 tavşan, 13 kedi, 10 köpek, 14 tavuk ve 18 tane civciv var.

Yukarıdaki bilgilere göre Ali Baba'nun çiftliğindeki hayvanların sayı tablosunu ve çetele tablosunu oluşturalım.

### ÇETELE TABLOSU

Hayvanlar	Sayısı
	
	
	
	
	

### SAYI TABLOSU

Hayvanlar	Sayısı
	
	
	
	
	

Yukarıdaki bilgilere göre aşağıdaki soruları yanıtlayalım.



Çiftlikte sayısı en fazla olan hayvan hangisidir?



Çiftlikte sayısı en az olan hayvan hangisidir?



Aşağıdaki işlemleri tabloya göre yapalım.

$$\text{Yellow chick} - \text{Black and white dog} = \dots\dots$$

$$\text{Black and white dog} + \text{White rabbit} = \dots\dots$$

$$\text{White duck} - \text{White rabbit} = \dots\dots$$

$$\text{Yellow chick} - \text{Black and white dog} = \dots\dots$$