








Ali Baba'nın çiftliğine hoşgeldiniz.






Bu çiftlikte 8 tavşan, 13 kedi, 10 köpek, 14 tavuk ve 18 tane civciv var.

Yukarıdaki bilgilere göre Ali Baba'nın çiftliğindeki hayvanların sayı tablosunu ve çetele tablosunu oluşturalım.

ÇETELE TABLOSU

Hayvanlar	Sayısı
	
	
	
	
	

SAYI TABLOSU

Hayvanlar	Sayısı
	
	
	
	
	

Yukarıdaki bilgilere göre aşağıdaki soruları yanıtlayalım.



Çiftlikte sayısı en fazla olan hayvan hangisidir?

a.



b.



c.



Çiftlikte sayısı en az olan hayvan hangisidir?

a.



b.



c.



Aşağıdaki işlemleri tabloya göre yapalım.

$$\text{Yellow chick} - \text{Black and white dog} = \dots\dots$$

$$\text{Black and white dog} + \text{White rabbit} = \dots\dots$$

$$\text{White duck} - \text{White rabbit} = \dots\dots$$

$$\text{Yellow chick} - \text{Black and white dog} = \dots\dots$$