

ÇARPMA İŞLEMİ ETKİNLİKLERİ

*Sınıf seviyesinde çarpma işlemi konusunda tekrar amaçlı kullanılacak bir çalışmadır.

*Her bir çalışma sayfasında 4 farklı bölüm bulunmaktadır. Sayfa içerisindeki farklı bölümler bağımsızdır. Parçalara ayrılıp farklı zamanlarda da kullanılabilir.

*Set 4 farklı sayfa ve 16 farklı bölümden (toplam 134 alıştırmaya) oluşmaktadır.



ilkokul1.com

Yunus KÜLCÜ

ÇARPMA İŞLEMİNE HAZIRLIK

Aşağıdaki soruları ritmik sayarak bulun ve cevaplarını işaretleyin.

8 kere 3 kaç eder?	8 kere 9 kaç eder?	2 x 9 kaç eder?
5 kere 7 kaç eder?	3 kere 2 kaç eder?	4 x 9 kaç eder?
8 x 5 kaç eder?	7 kere 8 kaç eder?	9 tane 9 kaç eder?
5 x 4 kaç eder?	9 kere 5 kaç eder?	5 tane 2 kaç eder?
7 x 7 kaç eder?	6 tane 2 kaç eder?	7 x 6 kaç eder?
36 20 49 56 35	54 42 18 40 72	10 45 24 6 81 12

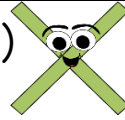
ÇARPMA İŞLEMİNE HAZIRLIK

Aşağıdaki soruları ritmik sayarak bulun ve cevaplarını işaretleyin.

9 tane 4 kaç eder?	5 kere 3 kaç eder?	5 x 6 kaç eder?
2 x 3 kaç eder?	5 x 5 kaç eder?	5 kere 7 kaç eder?
2 kere 8 kaç eder?	6 tane 9 kaç eder?	9 kere 5 kaç eder?
9 x 8 kaç eder?	5 x 2 kaç eder?	7 x 2 kaç eder?
4 tane 3 kaç eder?	6 kere 7 kaç eder?	7 kere 9 kaç eder?
30 45 15 72 63	12 36 54 16 10 27	14 25 6 35 42

ÇARPMA ALIŞTIRMALARI (Birinci Aşama)

Aşağıdaki işlemlerin sonuçlarını bulun ve işaretleyin.



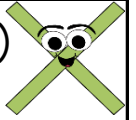
$$\begin{array}{r} 128 \\ \times 4 \\ \hline \end{array}$$
$$\begin{array}{r} 374 \\ \times 2 \\ \hline \end{array}$$
$$\begin{array}{r} 41 \\ \times 7 \\ \hline \end{array}$$
$$\begin{array}{r} 37 \\ \times 3 \\ \hline \end{array}$$

$$\begin{array}{r} 142 \\ \times 7 \\ \hline \end{array}$$
$$\begin{array}{r} 100 \\ \times 2 \\ \hline \end{array}$$
$$\begin{array}{r} 136 \\ \times 6 \\ \hline \end{array}$$
$$\begin{array}{r} 30 \\ \times 8 \\ \hline \end{array}$$

416 111 200 512 748 240 816 287 994

ÇARPMA ALIŞTIRMALARI (Birinci Aşama)

Aşağıdaki işlemlerin sonuçlarını bulun ve işaretleyin.

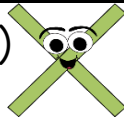


$$\begin{array}{r} 343 \\ \times 2 \\ \hline \end{array}$$
$$\begin{array}{r} 43 \\ \times 5 \\ \hline \end{array}$$
$$\begin{array}{r} 44 \\ \times 2 \\ \hline \end{array}$$
$$\begin{array}{r} 200 \\ \times 2 \\ \hline \end{array}$$

$$\begin{array}{r} 86 \\ \times 9 \\ \hline \end{array}$$
$$\begin{array}{r} 178 \\ \times 3 \\ \hline \end{array}$$
$$\begin{array}{r} 24 \\ \times 4 \\ \hline \end{array}$$
$$\begin{array}{r} 112 \\ \times 7 \\ \hline \end{array}$$

728 400 686 88 96 215 534 774 784

ÇARPMA ALIŞTIRMALARI (Birinci Aşama)



Aşağıdaki işlemlerin sonuçlarını bulun ve işaretleyin.

$$\begin{array}{r} 285 \\ \times 3 \\ \hline \end{array}$$

$$\begin{array}{r} 60 \\ \times 4 \\ \hline \end{array}$$

$$\begin{array}{r} 135 \\ \times 2 \\ \hline \end{array}$$

$$\begin{array}{r} 227 \\ \times 3 \\ \hline \end{array}$$

$$\begin{array}{r} 117 \\ \times 8 \\ \hline \end{array}$$

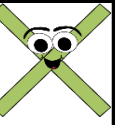
$$\begin{array}{r} 113 \\ \times 2 \\ \hline \end{array}$$

$$\begin{array}{r} 51 \\ \times 5 \\ \hline \end{array}$$

$$\begin{array}{r} 97 \\ \times 9 \\ \hline \end{array}$$

681 936 270 873 855 152 226 255 240

ÇARPMA ALIŞTIRMALARI (Birinci Aşama)



Aşağıdaki işlemlerin sonuçlarını bulun ve işaretleyin.

$$\begin{array}{r} 222 \\ \times 4 \\ \hline \end{array}$$

$$\begin{array}{r} 188 \\ \times 4 \\ \hline \end{array}$$

$$\begin{array}{r} 68 \\ \times 5 \\ \hline \end{array}$$

$$\begin{array}{r} 42 \\ \times 3 \\ \hline \end{array}$$

$$\begin{array}{r} 247 \\ \times 2 \\ \hline \end{array}$$

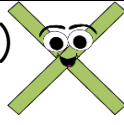
$$\begin{array}{r} 28 \\ \times 5 \\ \hline \end{array}$$

$$\begin{array}{r} 62 \\ \times 4 \\ \hline \end{array}$$

$$\begin{array}{r} 83 \\ \times 4 \\ \hline \end{array}$$

494 888 248 332 340 546 752 140 126

ÇARPMA ALIŞTIRMALARI (Birinci Aşama)



Aşağıdaki işlemlerin sonuçlarını bulun ve işaretleyin.

$$\begin{array}{r} 105 \\ \times 2 \\ \hline \end{array}$$

$$\begin{array}{r} 149 \\ \times 2 \\ \hline \end{array}$$

$$\begin{array}{r} 39 \\ \times 7 \\ \hline \end{array}$$

$$\begin{array}{r} 145 \\ \times 5 \\ \hline \end{array}$$

$$\begin{array}{r} 120 \\ \times 4 \\ \hline \end{array}$$

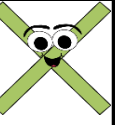
$$\begin{array}{r} 124 \\ \times 2 \\ \hline \end{array}$$

$$\begin{array}{r} 227 \\ \times 3 \\ \hline \end{array}$$

$$\begin{array}{r} 164 \\ \times 4 \\ \hline \end{array}$$

248 906 681 210 273 480 298 725 656

ÇARPMA ALIŞTIRMALARI (Birinci Aşama)



Aşağıdaki işlemlerin sonuçlarını bulun ve işaretleyin.

$$\begin{array}{r} 77 \\ \times 4 \\ \hline \end{array}$$

$$\begin{array}{r} 159 \\ \times 5 \\ \hline \end{array}$$

$$\begin{array}{r} 426 \\ \times 2 \\ \hline \end{array}$$

$$\begin{array}{r} 233 \\ \times 2 \\ \hline \end{array}$$

$$\begin{array}{r} 199 \\ \times 4 \\ \hline \end{array}$$


$$\begin{array}{r} 79 \\ \times 5 \\ \hline \end{array}$$

$$\begin{array}{r} 193 \\ \times 3 \\ \hline \end{array}$$

$$\begin{array}{r} 138 \\ \times 7 \\ \hline \end{array}$$

795 796 579 466 395 308 966 889 852

ÇARPMA ALIŞTIRMALARI (İkinci Aşama)



Aşağıdaki işlemlerin sonuçlarını bulun ve işaretleyin.

$$\begin{array}{r} 21 \\ \times 24 \\ \hline \end{array}$$

$$\begin{array}{r} 14 \\ \times 47 \\ \hline \end{array}$$

$$\begin{array}{r} 16 \\ \times 28 \\ \hline \end{array}$$

$$\begin{array}{r} 12 \\ \times 40 \\ \hline \end{array}$$

$$\begin{array}{r} 17 \\ \times 47 \\ \hline \end{array}$$

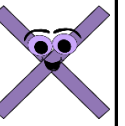
$$\begin{array}{r} 18 \\ \times 13 \\ \hline \end{array}$$

$$\begin{array}{r} 23 \\ \times 20 \\ \hline \end{array}$$

$$\begin{array}{r} 21 \\ \times 26 \\ \hline \end{array}$$

546 234 480 660 504 799 658 460 448

ÇARPMA ALIŞTIRMALARI (İkinci Aşama)



Aşağıdaki işlemlerin sonuçlarını bulun ve işaretleyin.

$$\begin{array}{r} 50 \\ \times 14 \\ \hline \end{array}$$

$$\begin{array}{r} 41 \\ \times 18 \\ \hline \end{array}$$

$$\begin{array}{r} 11 \\ \times 36 \\ \hline \end{array}$$

$$\begin{array}{r} 36 \\ \times 26 \\ \hline \end{array}$$

$$\begin{array}{r} 11 \\ \times 21 \\ \hline \end{array}$$


$$\begin{array}{r} 14 \\ \times 34 \\ \hline \end{array}$$

$$\begin{array}{r} 13 \\ \times 15 \\ \hline \end{array}$$

$$\begin{array}{r} 70 \\ \times 14 \\ \hline \end{array}$$

980 738 936 231 700 195 925 396 476

ÇARPMA ALIŞTIRMALARI (İkinci Aşama)



Aşağıdaki işlemlerin sonuçlarını bulun ve işaretleyin.

$$\begin{array}{r} 16 \\ \times 57 \\ \hline \end{array}$$

$$\begin{array}{r} 34 \\ \times 22 \\ \hline \end{array}$$

$$\begin{array}{r} 32 \\ \times 26 \\ \hline \end{array}$$

$$\begin{array}{r} 14 \\ \times 24 \\ \hline \end{array}$$

$$\begin{array}{r} 17 \\ \times 57 \\ \hline \end{array}$$

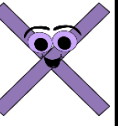
$$\begin{array}{r} 26 \\ \times 26 \\ \hline \end{array}$$

$$\begin{array}{r} 40 \\ \times 20 \\ \hline \end{array}$$

$$\begin{array}{r} 19 \\ \times 29 \\ \hline \end{array}$$

800 748 832 551 336 924 912 676 969

ÇARPMA ALIŞTIRMALARI (İkinci Aşama)



Aşağıdaki işlemlerin sonuçlarını bulun ve işaretleyin.

$$\begin{array}{r} 51 \\ \times 12 \\ \hline \end{array}$$

$$\begin{array}{r} 12 \\ \times 34 \\ \hline \end{array}$$

$$\begin{array}{r} 57 \\ \times 11 \\ \hline \end{array}$$

$$\begin{array}{r} 21 \\ \times 31 \\ \hline \end{array}$$

$$\begin{array}{r} 23 \\ \times 26 \\ \hline \end{array}$$

$$\begin{array}{r} 50 \\ \times 11 \\ \hline \end{array}$$

$$\begin{array}{r} 43 \\ \times 17 \\ \hline \end{array}$$

$$\begin{array}{r} 20 \\ \times 20 \\ \hline \end{array}$$

612 627 550 731 651 299 408 400 598

ÇARP BUL

Aşağıdaki işlemlerin cevaplarını tablodan işaretleyin.

$$\begin{array}{r} 84 \\ \times 10 \\ \hline \end{array}$$
$$\begin{array}{r} 483 \\ \times 2 \\ \hline \end{array}$$
$$\begin{array}{r} 22 \\ \times 41 \\ \hline \end{array}$$
$$\begin{array}{r} 19 \\ \times 31 \\ \hline \end{array}$$

$$\begin{array}{r} 45 \\ \times 9 \\ \hline \end{array}$$
$$\begin{array}{r} 147 \\ \times 5 \\ \hline \end{array}$$

1	5	7	3	5
5	9	4	0	5
9	0	5	8	9
9	2	8	9	1
6	6	4	2	8
6	1	0	7	8




ÇARP BUL

Aşağıdaki işlemlerin cevaplarını tablodan işaretleyin.

$$\begin{array}{r} 409 \\ \times 2 \\ \hline \end{array}$$
$$\begin{array}{r} 214 \\ \times 2 \\ \hline \end{array}$$
$$\begin{array}{r} 112 \\ \times 6 \\ \hline \end{array}$$
$$\begin{array}{r} 27 \\ \times 31 \\ \hline \end{array}$$

$$\begin{array}{r} 26 \\ \times 19 \\ \hline \end{array}$$
$$\begin{array}{r} 298 \\ \times 2 \\ \hline \end{array}$$

5	4	2	8	4
9	8	1	8	4
6	8	5	3	7
6	7	2	7	8
7	0	4	9	4
3	3	7	8	9



ÇARP BUL

Aşağıdaki işlemlerin cevaplarını tablodan işaretleyin.

$$\begin{array}{r} 16 \\ \times 32 \\ \hline \end{array}$$
$$\begin{array}{r} 159 \\ \times 3 \\ \hline \end{array}$$
$$\begin{array}{r} 15 \\ \times 20 \\ \hline \end{array}$$
$$\begin{array}{r} 119 \\ \times 2 \\ \hline \end{array}$$

$$\begin{array}{r} 55 \\ \times 9 \\ \hline \end{array}$$
$$\begin{array}{r} 13 \\ \times 22 \\ \hline \end{array}$$

4	0	5	3	3
4	2	6	0	6
9	8	7	0	4
5	6	5	0	7
2	3	8	6	7
5	1	2	2	9



ÇARP BUL

Aşağıdaki işlemlerin cevaplarını tablodan işaretleyin.

$$\begin{array}{r} 125 \\ \times 3 \\ \hline \end{array}$$
$$\begin{array}{r} 18 \\ \times 49 \\ \hline \end{array}$$
$$\begin{array}{r} 123 \\ \times 5 \\ \hline \end{array}$$
$$\begin{array}{r} 13 \\ \times 64 \\ \hline \end{array}$$

$$\begin{array}{r} 164 \\ \times 6 \\ \hline \end{array}$$
$$\begin{array}{r} 23 \\ \times 10 \\ \hline \end{array}$$

2	5	8	8	2
9	3	0	7	3
8	6	1	5	7
4	8	7	2	5
1	3	7	3	8
0	2	0	0	6

