

RESİM KÖŞESİ

Kitapçık Hakkında

Bu kitapçıkta konu tekrarı amaçlı etkinlikler ve dikkat geliştirici eğlenceli çalışmalar bulunmaktadır. Yönergeler veliler ve öğretmenler için hazırlandığından küçük puntolarla yazılmıştır. Faydalı olması dileğiyle.

Kontrol Edenin Adı İmzası

1. SINIF EĞLENCELİ ÇALIŞMALAR 2

12 Eğlenceli Çalışma



ilkokul1.com

Adı Soyadı:

Sınıfı :

Okulu :

Yunus KÜLCÜ

ŞİFRELİ TOPLAMA İŞLEMLERİ

Aşağıdaki işlemleri yapın ve şifreyi bulun.



$$\begin{array}{r} * \\ 3 \\ + 6 \\ \hline \end{array} \quad \begin{array}{r} K \\ 3 \\ + 5 \\ \hline \end{array} \quad \begin{array}{r} O \\ 8 \\ + 8 \\ \hline \end{array} \quad \begin{array}{r} Ç \\ 12 \\ + 6 \\ \hline \end{array} \quad \begin{array}{r} Ş \\ 3 \\ + 3 \\ \hline \end{array} \quad \begin{array}{r} A \\ 6 \\ + 9 \\ \hline \end{array}$$

$$\begin{array}{r} T \\ 2 \\ + 12 \\ \hline \end{array} \quad \begin{array}{r} K \\ 6 \\ + 11 \\ \hline \end{array} \quad \begin{array}{r} L \\ 7 \\ + 5 \\ \hline \end{array} \quad \begin{array}{r} I \\ 16 \\ + 3 \\ \hline \end{array} \quad \begin{array}{r} I \\ 6 \\ + 4 \\ \hline \end{array} \quad \begin{array}{r} Ç \\ 3 \\ + 8 \\ \hline \end{array}$$

18	16	17	9	11	15	12	19	6	14	10	8



Uygun kutuları boyayarak yolu tamamlayın. (birer geri ritmik sayarak)



20	5	15	11	18	15	8	7	1	9
19	1	19	7	9	8	7	2	11	20
18	15	16	11	10	3	6	5	15	1
17	20	13	12	19	2	19	4	3	10
16	15	14	4	13	10	9	7	2	1



GÜZEL YAZI ÇALIŞMASI

Verilen cümleleri oku ve güzel bir şekilde yaz.

Okmak iyidir.

Çok okuyan bilir.

Onlar ikiz kardeş.

Şekil çizelim.

Çorba içtim.

Bursa'ya gitti.

HIZLI OKUMA ÇALIŞMASI

Her okuyuşta bir gülen yüz boya.



Baba

Baba al.

Baba araba al.

Baba bana araba al.


Baba bana bir araba al.


Baba bana küçük bir araba al.


Baba bana küçük bir oyuncak araba al.

Baba bana küçük güzel bir oyuncak araba al.

Kutulardaki hayvanların on tanesini yuvarlak içine alın. Kutulardaki hayvan sayılarının onluk, birliklerini ve sayılarını altlarındaki tablolarda gösterin.





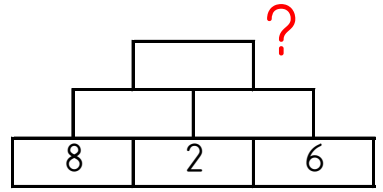


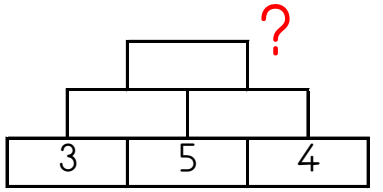
Onluk	Birlik
.....
.....	

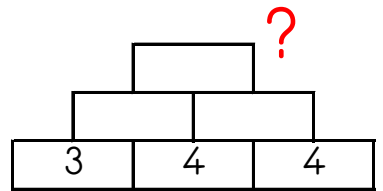
Onluk	Birlik
.....
.....	

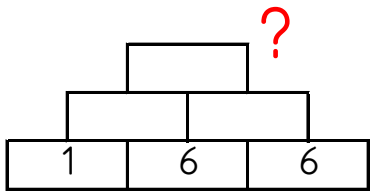
Onluk	Birlik
.....
.....	

Altındaki iki kutunun toplamını bir üst kutuya yazarak en üstteki sayıyı bul ve işaretle.










18
17
13
19
15

Kod alanındaki komutları kullanarak gerçek hazineyi bulup işaretleyebilir misin?


➤=Sağa; ➤=Sola; ▲=Yukarı; ▼=Aşağı



Başla	1	2	3	4	5
6	7	8	9	10	11
12	13	14	15	16	17
18	19	20	21	22	23
24	25	26	27	28	29
30	31	32	33	34	35

KOD ALANI

Başla: 3▼; 4➤; 1▼;
1➤; 3▲; Bitir.




Başla	1	2	3	4	5
6	7	8	9	10	11
12	13	14	15	16	17
18	19	20	21	22	23
24	25	26	27	28	29
30	31	32	33	34	35


KOD ALANI

Başla: 4▼; 2➤; 3▲;
1◀; 1▲; 4➤; 1▼; 3◀;
1▲; 1➤; Bitir.

Kutuları boyayarak yolu tamamla. (ikişer ileri ritmik sayarak.)



2	4	18	6	2	6
10	6	8	10	12	8
4	14	20	2	14	12
20	2	16	14	16	14
18	8	16	10	18	20



SUDOKU (KOLAY SEVİYE)

Her satır ve sütunda 1,2,3,4 rakamlarını kullanarak boş kutuları doldurun.

Sudoku 1

	1	3	
	4	1	2
			3
4	3	2	1

Sudoku 2

	1	2	
2		1	
1	3		2
4	2	3	

EŞİ OLMAYANI BUL (ŞİFRELİ)

Her bir kutuda eşî olan harfleri boya ve tek kalan harfleri şifre bölümüne yazarak şifreyi oluştur.

1	2	3	4
U U I	E I T	I R T	R Y E
O L K	K O E	T Ö Ö	E L N
L K I	T O I	I U R	R N Y

5	6	7	8
L T L	R Ü O	L A U	I L I
Y I I	Ö O M	L A Ö	U L M
Y T U	Ö Ü R	K Ö K	U M Z

1	2	3	4	5	6	7	8

Aşağıdaki işlemleri yapın ve şifreyi bulun.



L	$10 + 7 = \dots$	I	$4 + 11 = \dots$	U	$4 + 4 = \dots$
---	------------------	---	------------------	---	-----------------

O	$9 + 2 = \dots$	D	$3 + 2 = \dots$	K	$3 + 7 = \dots$
---	-----------------	---	-----------------	---	-----------------

O	$5 + 9 = \dots$	A	$9 + 3 = \dots$	K	$2 + 4 = \dots$
---	-----------------	---	-----------------	---	-----------------

A	$9 + 4 = \dots$	M	$2 + 2 = \dots$	*	$3 + 4 = \dots$
---	-----------------	---	-----------------	---	-----------------

R	$12 + 4 = \dots$	Y	$10 + 8 = \dots$	K	$4 + 15 = \dots$
---	------------------	---	------------------	---	------------------

11	10	8	4	12	19	7	6	14	17	13	18	5	15	16

EŞİ OLMAYANI BUL

Aşağıdaki her bir kutuda eşî olmayan şekli bulun ve işaretleyin.

☆	↓	□	☰	○
○	⌚	✂	✂	■
↓	☆	⚙	⚙	↕
☰	■	□	⌚	✓
↕	✍	✍	✓	✍



✂	✂	📖	☆	✂
✂	□	☑	✂	☆
◆	📖	✂	◆	✂
◆	□	✂	✂	📖
📖	□	📖	□	◆