


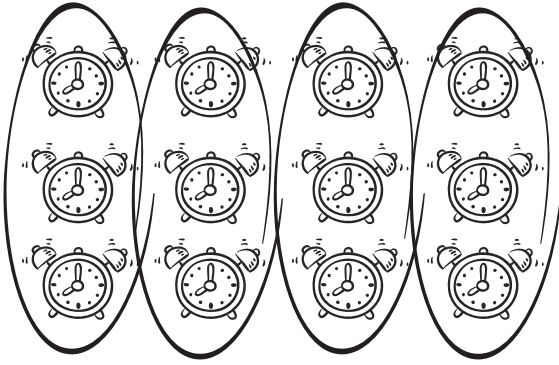
Aşağıdaki gruplanmış nesnelere inceleyip, soruları yanıtlayınız.



Kaç tane top var?

Her grupta kaç tane var?

Kaç tane grup oldu?



Kaç tane saat var?

Her grupta kaç tane var?

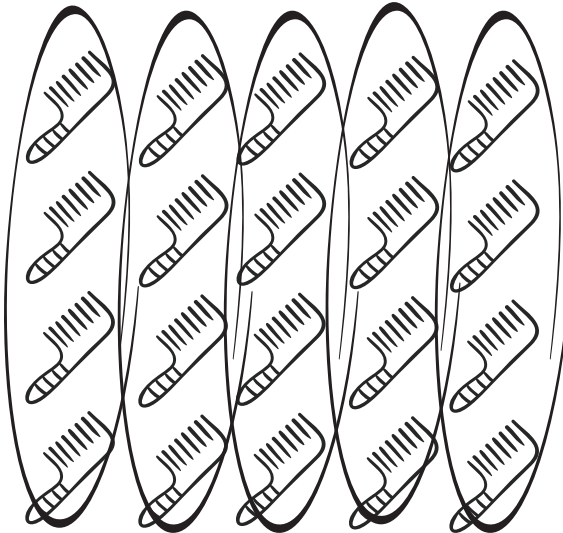
Kaç tane grup oldu?



Kaç tane şemsiye var?

Her grupta kaç tane var?

Kaç tane grup oldu?



Kaç tane tarak var?

Her grupta kaç tane var?

Kaç tane grup oldu?