


1. Aşağıda boş bırakılan yerleri "az" veya "çok" ifadeleri ile tamamlayınız.




- ✎ Fincan, su bardağından daha sıvı alır.
- ✎ Kova, fincandan daha sıvı alır.
- ✎ Su bardağı, kovadan daha sıvı alır.
- ✎ Keççe, kovadan daha sıvı alır.

2. Aşağıda verilen görsellere göre cümlelerdeki boşlukları uygun sayılarla doldurunuz.



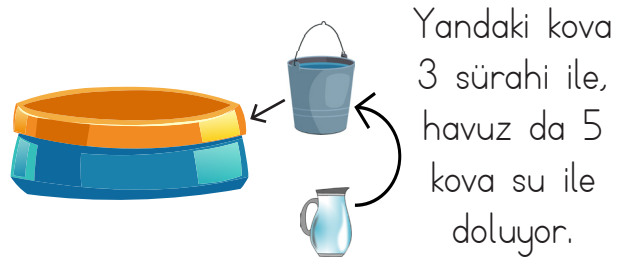
- ✎ Yukarıdaki kovadan şişe su çıkmıştır.
- ✎ Aynı büyüklükteki iki kovadan şişe su çıkar.
- ✎ Aynı büyüklükteki üç kovadan şişe su çıkar.

3. Aşağıda verilen görsellere göre cümlelerdeki boşlukları uygun sayılarla doldurunuz.



- ✎ Yukarıdaki şişeden bardak süt çıkmıştır.
- ✎ Aynı büyüklükteki üç şişeden bardak süt çıkar.
- ✎ Aynı büyüklükteki dört şişeden bardak süt çıkar.

4. Aşağıda verilen görsellere göre cümlelerdeki boşlukları uygun sayılarla doldurunuz.



Yandaki kova 3 sürahi ile, havuz da 5 kova su ile doluyor.

- ✎ Havuz sürahi su ile dolar.
- ✎ Aynı büyüklükteki iki havuz sürahi su ile dolar.
- ✎ Aynı büyüklükteki iki havuz kova su ile dolar.
- ✎ Aynı büyüklükteki üç havuzdan kova su çıkar.