

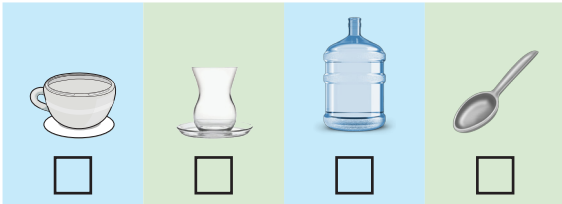
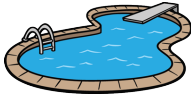


1. Sıvıları ölçmek için kullanılan kapların bulunduğu bölümleri işaretleyiniz.



2. Aşağıdaki kaplardan hangisini kullanarak aşağıdaki havuzu, boşken daha çabuk doldururuz? İşaretleyelim.



3. Aşağıdaki görsele göre doğru olanları işaretleyiniz.



- En fazla sıvıyı kepçe alır.
- Fincan, su bardağından daha az sıvı alır.
- Her kaba eşit miktar su koyarsak sıvı yüksekliği en az olan su bardağı olur.
- En fazla sıvıyı su bardağı alır.
- Kaşık, kepçeden daha az sıvı alır.
- En az sıvıyı fincan alır.
- Su bardağı, kepçeden daha fazla su alır.

4. Sıvılara 4 tane örnek veriniz.

