




İki resim arasındaki 10 farkı bulalım.

???



10





YÜZME

Neredeyse tüm çocuklar yüzmeyi sever. Ben de çok seviyorum. Neden mi çok seviyorum? Çünkü yüzmeye, tüm vücudu kullanmayı gerektirir. Dayanıklılık, kas gücü ve esnekliği aynı anda kazandırır. Bu nedenle bizlerin gelişimine çok önemli katkı sağlar. Bizleri bilgisayar ve tablet başından kaldırmak için yüzmenin iyi bir seçenek olduğunu söyleyebiliriz. Yüzme sırasında tüm vücut aynı anda çalışır. Bu koordineli çalışma sonunda her bir kas eşit oranda gelişir ve güçlenir. Bu sayede ilerleyen yaşlarda sakatlanma riskimiz de azalır. Yüzerken özellikle göğüs, omuz ve sırt kasları daha yoğun çalışır. Ayrıca bacak ve kol kasları da güçlenir. Çocukların kas ve kemik gelişiminin daha hızlı olmasına bağlı olarak boylarının da yaşlarına göre daha hızlı uzadığı ve vücutlarının orantılı şekilde geliştiği kanıtlanmıştır. Yüzme, kalp kasının güçlenmesini sağladığı için meydana gelebilecek kalp rahatsızlıklarından da bizleri korur. Yüzme sonrasında artan hormonlar çocukların kendilerini çok daha iyi hissetmesine yardımcı olur. Yüzmenin psikolojik olarak rahatlatıcı etkisini ise söylemeye bile gerek yok. Ayrıca zihnini de dinç tutar. Bu nedenle düzenli olarak bir sporla ilgilendiğimiz için okul başarımız artar. Sizi duyar gibi oluyorum. Bana bir soru mu sordunuz? Bunları kim mi söylüyor? Tabii ki bu konunun uzmanları. Ben uzmanları dinleyip yüzmeye başladım bile.

 Aşağıdaki soruları okuduğunuz metne göre yanıtlayınız.

1 Aşağıdakilerden hangisi yüzme sporunun bize kazandırdıklarından biri değildir?

- A. Kas gücü B. Esneklik
C. Saç Sağlığı

2 Aşağıdakilerden hangisi konunun uzmanlarının verdiği bilgilerden biri değildir?

- A. Kalp kasının güçlenmesi
B. Vücutların orantılı gelişmesi
C. Bilgisayar kullanımını kolaylaştırması



3 Yüzme sonrasında çocukların kendilerini daha iyi hissetmesini sağlayan şey nedir?

- A. Uzmanların söyledikleri
- B. Artan hormonların etkisi
- C. Kalp kasının güçlenmesi

4 Aşağıda heceleri karışık olarak verilmiş kelimeleri anlamlı hale getirip karşlarına tekrar yazalım.

- ka-ra-an:.....
- ci-nir-pey:.....
- da-li-na-man:.....
- bul-tan-is:.....
- nek-me-şe:.....
- ler-ki-bit:.....
- tar-ti-an-ka:.....
- ra-u-nüs:.....
- sa-ka-ba:.....
- ça-şır-ma:.....
- yan-sal-goz:.....
- lın-cak-sa:.....
- ta-türk-a:.....
- kam-net-yo:.....
- tah-ya-kü:.....

5 Siz hangi sporu seviyorsunuz? Nedenini kısaca açıklayınız.

.....

.....

.....

.....

.....

6 Aşağıdaki kelimeleri eş anlamlıları ile eşleştirelim, eş anlamlıların bulunduğu kutuları aynı renge boyayalım.


- | | |
|----------------------------------|---------------------------------|
| <input type="checkbox"/> doktor | <input type="checkbox"/> zaman |
| <input type="checkbox"/> yurt | <input type="checkbox"/> okul |
| <input type="checkbox"/> yıl | <input type="checkbox"/> sene |
| <input type="checkbox"/> hür | <input type="checkbox"/> konuk |
| <input type="checkbox"/> vakit | <input type="checkbox"/> hediye |
| <input type="checkbox"/> mektep | <input type="checkbox"/> özgür |
| <input type="checkbox"/> armağan | <input type="checkbox"/> hekim |
| <input type="checkbox"/> lider | <input type="checkbox"/> vatan |
| <input type="checkbox"/> sözcük | <input type="checkbox"/> anı |
| <input type="checkbox"/> ad | <input type="checkbox"/> kelime |
| <input type="checkbox"/> hatıra | <input type="checkbox"/> isim |
| <input type="checkbox"/> misafir | <input type="checkbox"/> önder |

pekişen yayınları




🍉 Aşağıdaki bilmeceler ile cevaplarını eşleştirelim.


Kuyruğu var,
At değil.
Kanadı var,
Kuş değil.



Dışı var,
İçi yok;
Tekme yer,
Suçu yok.



Akşam baktım
çok idi, Sabah
baktım yok idi.




Bir sapı var,
Yüz topu var.



Gökte durur
Paslanmaz,
Suya düşer
İslenmez.



🍉 Aşağıda numaralandırılmış olan resimlerdeki varlıkların isimlerini bulmacadaki uygun alanlara yazalım. Mavi kutulara yazdığımız harfleri kullanarak şifreyi çözelim.



1

2

3

4

5

6

7

8



ŞİFRE:





Aşağıdaki işlemlerde verilmeyen terimleri bulalım. Bulduğumuz terimleri tablodan bulup boyayalım.

$$\begin{array}{r} 853 \\ - \square \\ \hline 233 \end{array}$$

$$\begin{array}{r} \square \\ + 369 \\ \hline 987 \end{array}$$

$$\begin{array}{r} 801 \\ - \square \\ \hline 569 \end{array}$$

$$\begin{array}{r} \square \\ + 238 \\ \hline 586 \end{array}$$

$$\begin{array}{r} 288 \\ - \square \\ \hline 109 \end{array}$$

$$\begin{array}{r} \square \\ + 245 \\ \hline 687 \end{array}$$

$$\begin{array}{r} 665 \\ - \square \\ \hline 136 \end{array}$$

$$\begin{array}{r} \square \\ + 243 \\ \hline 755 \end{array}$$

$$\begin{array}{r} 958 \\ - \square \\ \hline 233 \end{array}$$

$$\begin{array}{r} \square \\ + 669 \\ \hline 863 \end{array}$$

$$\begin{array}{r} 880 \\ - \square \\ \hline 243 \end{array}$$

$$\begin{array}{r} \square \\ + 699 \\ \hline 996 \end{array}$$

2	7	1	6	1	8
3	2	7	5	1	2
2	5	9	6	3	7
2	1	3	4	8	6
9	9	4	4	2	2
7	4	5	2	9	0



▲ Aşağıdaki çıkarma işlemlerini yapıp bulduğunuz sonuçları dinozorun üzerindeki beneklerden bulup boyayalım.

$$\begin{array}{r} 976 \\ - 469 \\ \hline \end{array}$$

$$\begin{array}{r} 875 \\ - 146 \\ \hline \end{array}$$

$$\begin{array}{r} 805 \\ - 777 \\ \hline \end{array}$$

$$\begin{array}{r} 693 \\ - 155 \\ \hline \end{array}$$

$$\begin{array}{r} 370 \\ - 199 \\ \hline \end{array}$$

$$\begin{array}{r} 466 \\ - 267 \\ \hline \end{array}$$

$$\begin{array}{r} 856 \\ - 243 \\ \hline \end{array}$$

$$\begin{array}{r} 796 \\ - 445 \\ \hline \end{array}$$

$$\begin{array}{r} 661 \\ - 144 \\ \hline \end{array}$$

$$\begin{array}{r} 742 \\ - 256 \\ \hline \end{array}$$

$$\begin{array}{r} 368 \\ - 145 \\ \hline \end{array}$$

$$\begin{array}{r} 746 \\ - 547 \\ \hline \end{array}$$

$$\begin{array}{r} 448 \\ - 399 \\ \hline \end{array}$$


$$\begin{array}{r} 533 \\ - 138 \\ \hline \end{array}$$

$$\begin{array}{r} 420 \\ - 178 \\ \hline \end{array}$$

$$\begin{array}{r} 906 \\ - 199 \\ \hline \end{array}$$

$$\begin{array}{r} 199 \\ - 103 \\ \hline \end{array}$$

$$\begin{array}{r} 663 \\ - 138 \\ \hline \end{array}$$



 Aşağıdaki problemleri çözelim.

1 Ahmet 188 sayısını hangi sayı ile toplarsa, toplamı 886 bulur?

ÇÖZÜM:

2 Ayşe 702 sayfa kitaptan ilk gün 167, ikinci gün 245 sayfa okuyor. Kitabını üçüncü günde bitirmesi için kaç sayfa daha okuması gerekir?

ÇÖZÜM:

3 Bir sütçü 154 litre süt ve hemen ardından 302 litre daha süt toplamıştır. Bu sütlerin 423 litresini satınca elinde kaç litre süt kalmıştır?

ÇÖZÜM:

4 Bir toplama işleminde ikinci toplanan 165 ve toplam 350 ise birinci toplanan kaçtır?

ÇÖZÜM:

5 814 tane cevizin bir kısmı satılınca geriye 76 tane ceviz kaldı. Kaç tane ceviz satılmıştır?


ÇÖZÜM:

6 Bir trende 135 kadın yolcu ve kadın yolcuların sayısından 50 fazla sayıda erkek yolcu vardır. Trene 102 kişi daha binince bu trende kaç yolcu olmuştur?

ÇÖZÜM:

7 745 tane balon bulunan bir eğlence salonunda ilk gün 154 tane ve ikinci gün 78 tane balon patlamıştır. Bu iki günün sonunda kaç tane balon kalmıştır?

ÇÖZÜM:




▲ Aşağıdaki Dünya modeli üzerinde gösterilen yerlerin hangi katmana ait olduğunu yazalım.



Burun sağlığını korumalıyız. Bunun için;

.....
.....
.....



Göz sağlığını korumalıyız. Bunun için;

.....
.....
.....



Kulak sağlığını korumalıyız. Bunun için;

.....
.....
.....



Deri sağlığını korumalıyız. Bunun için;

.....
.....
.....

▲ Aşağıda verilen kavramları bulmacanın içinden bulup işaretleyelim.


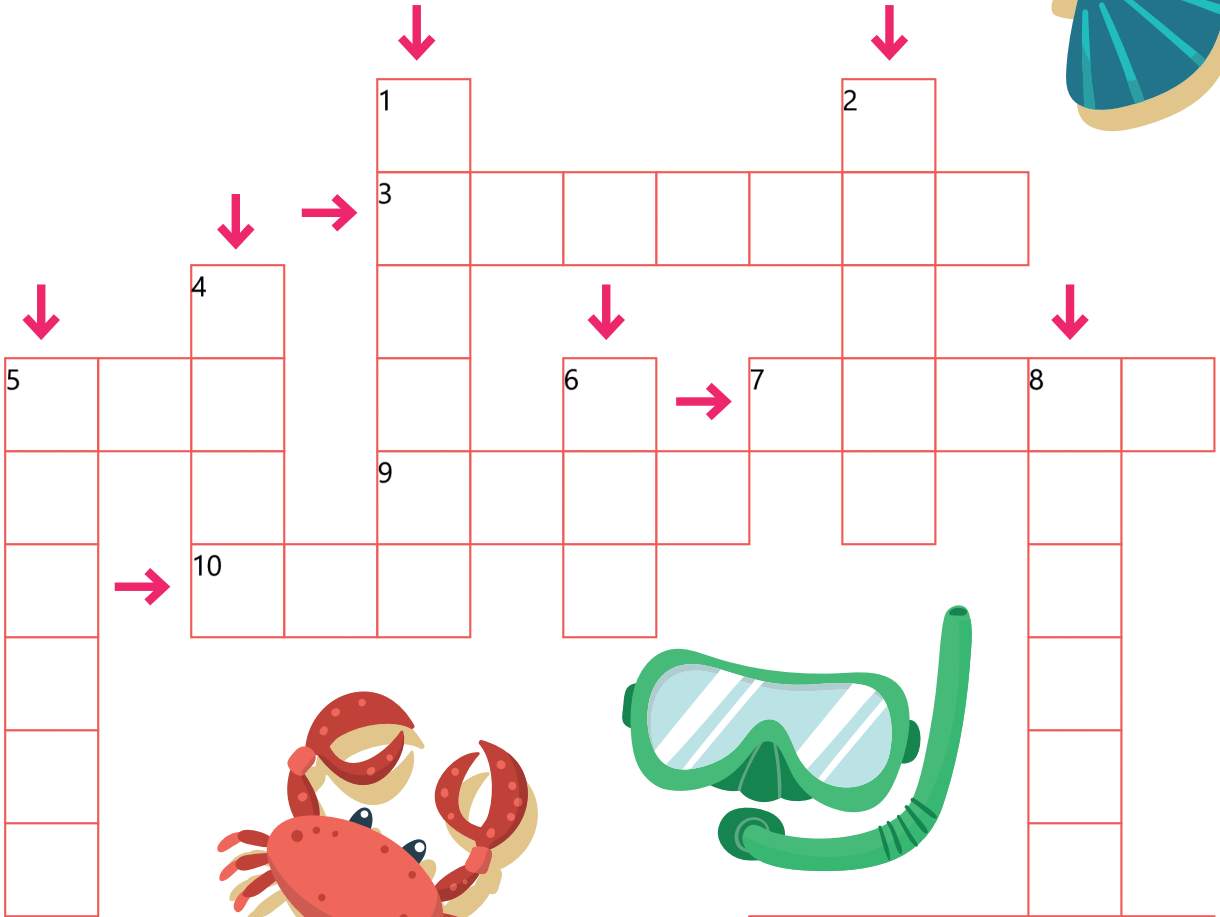
D	D	S	M	J	M	W	G	W	A	D	S	T	B	J	B	P	F	A	S
A	T	A	T	M	A	Q	M	K	K	İ	K	W	M	İ	A	Y	B	N	N
K	T	U	Q	S	L	H	V	P	İ	L	S	K	X	T	L	Y	İ	B	Q
P	Q	L	R	S	H	D	O	K	U	N	M	A	B	N	B	A	N	F	X
Y	F	G	R	Q	G	Z	M	P	K	E	B	D	R	A	U	M	D	B	K
S	X	İ	K	K	O	K	U	A	L	M	A	X	W	K	R	Z	C	B	İ
D	Q	Ş	X	H	H	J	L	T	E	R	B	V	R	U	U	İ	O	B	E
E	M	İ	J	N	A	H	P	K	Z	D	N	A	N	L	N	H	J	R	N
R	F	T	Q	W	S	D	W	R	S	Y	V	V	B	A	G	S	J	İ	J
İ	S	M	K	P	P	A	A	B	N	İ	E	V	L	K	F	W	H	K	H
M	S	E	S	J	B	Q	R	V	C	G	M	T	İ	T	K	E	R	E	O
Z	B	Y	E	Q	V	E	V	R	W	Ö	G	S	Y	O	R	Y	G	R	Q
A	R	U	Y	T	Y	O	H	E	O	R	T	R	T	B	H	H	İ	İ	İ
B	W	E	G	Y	V	O	K	N	F	M	R	U	E	N	B	D	X	F	D
E	G	Ö	Z	G	C	O	A	G	Y	E	F	N	R	R	G	İ	P	Y	P

- ★ Deri
- ★ Göz
- ★ Kulak
- ★ Burun
- ★ Dil
- ★ İşitme
- ★ Görme
- ★ Dokunma
- ★ Koku Alma
- ★ Tatma



 Aşağıdaki bulmacayı çözelim.

- 1 Atatürk'ün 19 Mayıs 1919'da ayak bastığı şehir
- 2 "Kirli" kelimesinin zıt anlamı
- 3 Solunum yapmamızı sağlayan organımız
- 4 Sıcakla soğuk arası
- 5 Motorlu ya da motorsuz araçları kullanan kişi
- 6 Okulların 3 ay tatil olduğu mevsim
- 7 "Kara" kelimesinin eş anlamı
- 8 Cumhuriyetimizin kurucusu
- 9 Bir hava taşıtı
- 10 Damarlarda dolaşan sıvı madde
- 11 Kuşbakişi çizim





MINİ TEST -7-


1 Buğra 141 cm'dir. Aras, Buğra'dan 23 cm kısadır. Aras ile Buğra'nın toplam uzunluğu kaç cm'dir?
A. 209 B. 259 C. 277

2 Okulumuzdaki erkek öğrencilerin sayısı 289'dur. Kızlar, erkeklerden 82 fazladır. Okulumuzun mevcudu kaçtır?
A. 561 B. 630 C. 660

3 Bahçemizde 6 kümes ve her kümeste 13 tavuk vardır. Toplam tavuk sayımız kaçtır?
A. 68 B. 75 C. 78

4 Serkan fiyatları 280 TL, 250 TL ve 225 TL olan 3 farklı ürün aldığı kasaya 800 TL vermiştir. Serkan ödemesini yaptıktan sonra aldığı fişteki para üstü bölümünde kaç TL yazmaktadır?
A. 55 B. 45 C. 40

5 Rakamları farklı en büyük üç basamaklı çift sayı hangisidir?
A. 896 B. 986 C. 988



6 Çiftlikteki ördeklerin sayısı, kazların sayısından 28 azdır. Çiftlikte 38 ördek olduğuna göre kazlarla, ördeklerin toplamı kaçtır?
A. 66 B. 98 C. 104

$$3 \star 5 - 296 = 89$$

7 Yanda verilen çıkarma işleminde \star yerine ne gelmelidir?
A. 4 B. 8 C. 9

pekişen yayınları



MINI TEST -8-

_____ mutfaktan tabakları getir.

1 Yukarıdaki cümlede boş bırakılan yere hangisi gelebilir?

- A. Ben
- B. Sen
- C. O

Güçlü

Siyah

2 Kutulardaki kelimeler eş anlamlılarıyla eşleştirildiğinde hangi kelime dışta kalır?

- A. Kara
- B. Sağlam
- C. Kuwetli

3 Aşağıdaki cümlelerin hangisinde sebep - sonuç anlamı yoktur?

- A. Görmediğinden dolayı selam vermemiş.
- B. Sarı saç, kızıl saç kadar güzel değildir.
- C. Çok yediği için kilo almış.



Geç kaldığından dolayı ekmek alamadı.

Deniz



Koşarken yere yüz üstü düştü.

Mustafa



Terlediği için hasta olmuş.

Kardelen

4 Yukarıdaki cümlelerdeki çocuklardan hangisinin söylediği cümle neden-sonuç cümlesi değildir?

- A. Deniz
- B. Mustafa
- C. Kardelen

5 Aşağıdaki cümlelerin hangisinde abartı yapılmamıştır?

- A. Hapşırınca dağlar yıkıldı.
- B. Odada soba yanınca sıcaklık oldu.
- C. Bebek ateşler içinde yanıyordu.




Write the names

FIND


WHO IS



John



Terry




Mandy



Jeremy



Alex



Joe



Jack



Tom

1. Joe is happy.
2. is sad.
3. is angry.
4. is surprised
5. is hungry.
6. is thirsty.
7. is energetic.
8. is tired

How do you feel? Draw and color.



I feel sad.



I feel happy.




I feel angry.




I feel surprised.





 Write the activities from the box.



Let's eat apple



Let's



Let's



Let's



Let's



Let's

- play football
- drink water
- cook
- play chess
- dance
- ~~eat apple~~

 Do the puzzle.

1. Let'splay... the guitar.



P	L	A	Y
---	---	---	---

2. Let's a hamburger.



E		
---	--	--

3. Let's a bike.



R			
---	--	--	--

4. Let's lemonade.



D				
---	--	--	--	--

5. Let's a kite.



F		
---	--	--

