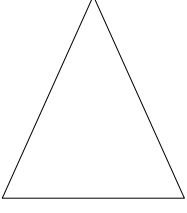
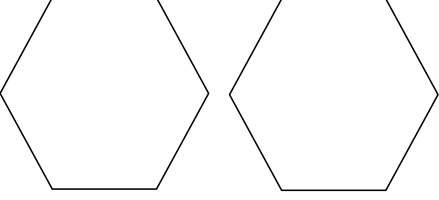


Kesirler



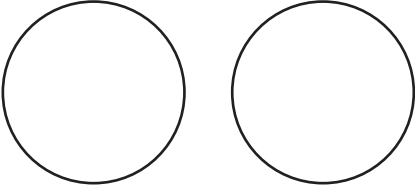
Yandaki şeklin yarısını boyayalım.

1 bütünden tane yarım oluşur.



Yandaki şekillerin yarısını boyayalım.


2 bütünden tane yarım oluşur.



Yandaki şekillerin çeyreğini boyayalım.



2 bütünden tane çeyrek oluşur.

3 tane ekmekten kaç tane yarım ekmek elde ederiz?




6

4 tane elmadan kaç tane yarım elma elde ederiz?



4 tane pizzadan kaç tane çeyrek pizza elde ederiz?



6 tane karpuzdan kaç tane yarım karpuz elde ederiz?

