

## TEST 11

1 Aşağıdakilerden hangisi canlı bir varlıktır?

A)



B)



C)



2 Aşağıdakilerden hangisi cansız bir varlık değildir?

A)



B)



C)



3 Aşağıdaki canlıları hareketlerine göre sınıflandırdığımızda hangisi diğerlerine göre farklıdır?

A)



B)



C)



4 Çaydanlık - Kedi - Arı - Kalem  
Yukarıdaki varlıklardan kaç tanesi cansızdır?

A) 2

B) 3

C) 4

5 Aşağıda verilen bilgilerden hangisi yanlıştır?

A) Canlı varlıklar, dışarıdan etki olmadan hareket edebilir.

B) Cansız varlıklar, solunum ve boşaltım yaparlar.

C) Canlı varlıklar zamanla gelişerek büyür.

I. Hava

II. Kaşık

III. Kartal

IV. Salyangoz

6 Yukarıda verilen varlıklardan hangileri cansız varlıktır?

A) I ve II

B) II ve IV

C) III ve IV

1



2



3



7 Yukarıdaki hangi varlık dışarıdan bir kuvvetin etkisiyle hareket eder?

A) 1

B) 2

C) 3

## TEST 11

8 Hangi seçenekte verilen bilgi doğrudur?



- A) Tüm canlılar hareket eder.
- B) Tüm canlılar yürüyebilir.
- C) Tüm canlılar sınırsızca büyür.



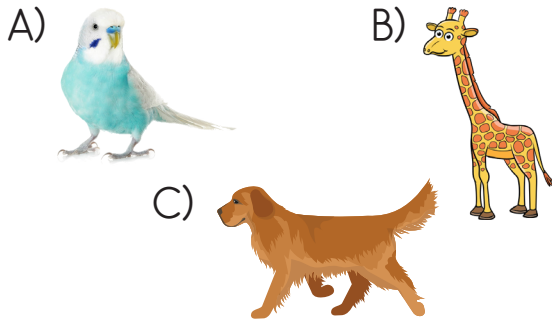
9 Yukarıda resmi olan canlı ile ilgili aşağıdakilerden hangisi söylenemez?

- A) Beslenmeden yaşayabilir.
- B) Yavrulayarak çoğalabilir.
- C) Uçabilir.

10 Görselleri verilen canlılardan hangisi hayvan değildir?



11 Aşağıdaki canlılardan hangisinin yaşam alanı yakın çevremizde değildir?




Boşaltım yaparlar.

Büyüme görülmez.

Uyarılara tepki verirler.

12 Yukarıdaki özelliklerden kaç tanesi canlı varlıklarda vardır?

- A) 1
- B) 2
- C) 3



13 Yukarıdaki görsellerde canlıların hangi özelliği vurgulanmak isteniyor ?

- A) Üreme
- B) Beslenme
- C) Boşaltım

14 Aşağıdakilerden hangisi canlılık yönüyle diğerlerinden farklı bir grupta yer alır?

