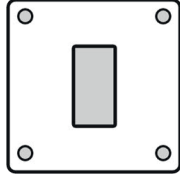


● Aşağıdaki görsellerin benzedikleri geometrik şekillerin adlarını altına yazınız.



.....



.....



.....




.....



.....



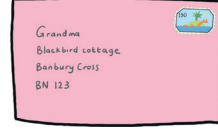
.....



.....



.....



.....



.....

● Aşağıdaki görsellerin benzedikleri geometrik şekillerin adlarını bulmacaya yazınız.

1

2

3

4