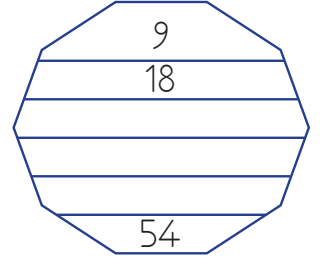
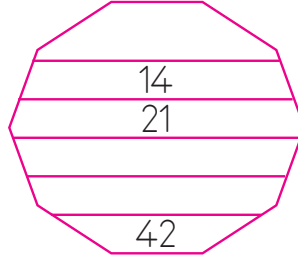
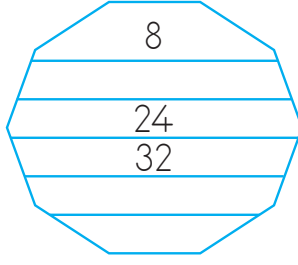
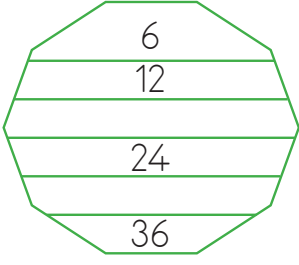


1. Aşağıdaki şekillerde yukarıdan aşağıya doğru ritmik saymalar yapılmıştır. Kaçarlı ritmik sayma yapıldığını bulup boşluklara uygun sayıları yazınız.



2. Aşağıdaki ritmik saymaları kuralları ile aynı renge boyayarak eşleştiriniz.

21 - 28 - 35 - 42 - 49

Altışar

24 - 32 - 40 - 48 - 56

10 - 18 - 26 - 34 - 42

Yedişer

8 - 17 - 26 - 35 - 44

11 - 17 - 23 - 29 - 35

Sekizer

12 - 18 - 24 - 30 - 36

20 - 27 - 34 - 41 - 48

Dokuzar

13 - 22 - 31 - 40 - 49

3. Aşağıdaki ifadeler doğru ise "D", yanlış ise "Y" yazınız.

..... Altışar ritmik sayma yaparken 42'den önce 36 söylenir.

..... Sekizer ritmik sayma yaparken 10 ile 20 arasında iki sayı söylenir.

..... 10'dan başlayarak yedişerli sayma yaparken 24 sayısı söylenir.

..... 2'den başlayıp (2 dahil) altışarlı sayma yaparken 5. saymada 26 söylenir.

..... 18'den başlayıp (18 dahil) dokuzar sayma yaparken 36 sayısı söylenmez.