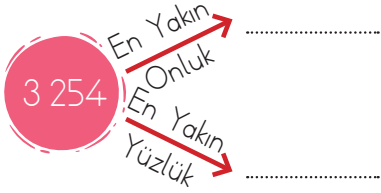
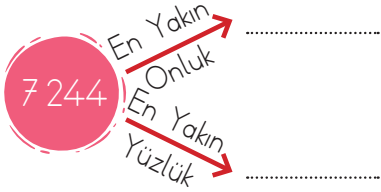
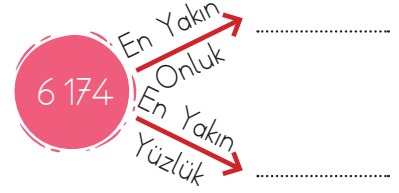


1. Aşağıdaki sayıları en yakın onluğa ve en yakın yüzlüğe yuvarlayalım.



2. Aşağıda yuvarlama yapılmış sayılar verilmiştir. Bunlardan hangilerinin en yakın onluğa, hangisinin en yakın yüzlüğe yuvarlandığını örnekteki gibi yazalım.

1 286 → 1 300 **Yüzlüğe**..... 1 322 → 1 320

5 426 → 5 400 2 356 → 2 400

8 736 → 8 740 5 235 → 5 240

4 583 → 4 600 3 609 → 3 600

7 635 → 7 640 1 376 → 1 380

1 246 → 1 200 5 266 → 5 300

6 231 → 6 200 3 685 → 3 690

8 776 → 8 780 8 633 → 8 630

4 012 → 4 010 2 339 → 2 300

3 229 → 3 200 4 538 → 4 540