

AÇILAR

Dar açı : Ölçüsü 0° büyük 90° den küçük açılara dar açı denir.

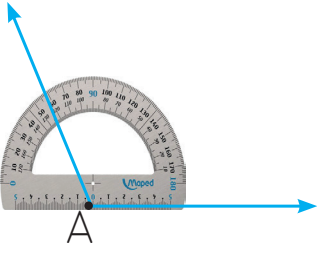
Geniş açı : ölçüsü 90° den büyük 180° den küçük açılara geniş açı denir.

Doğru açı : Ölçüsü 180° derece olan açılara doğru açı denir.

Dik açı : Ölçüsü 90° olan açılara dik açı denir.

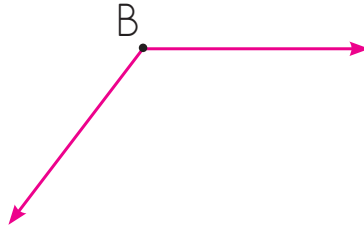
DİKKAT!

- Aşağıdaki açının büyüklüğünü açı ölçer ile ölçünüz. Altlarına açı çeşitlerini yazınız.



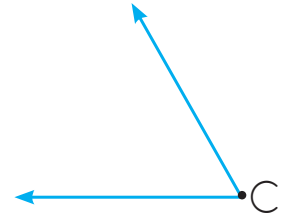
$$\hat{A} = 125^\circ$$

Geniş Açı



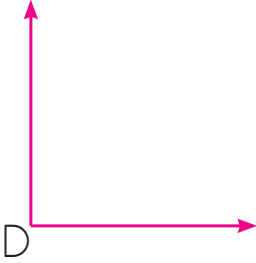
.....

.....



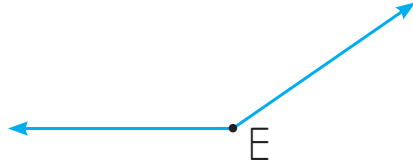
.....

.....



.....

.....



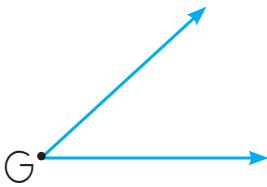
.....

.....



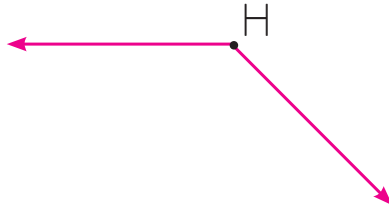
.....

.....



.....

.....



.....

.....



.....

.....

ÖLÇÜSÜ VERİLEN AÇIYI ÇİZME

● Aşağıda ölçüleri verilen açılarını çizelim.

125°



45°



100°



70°



25°



60°



52°



90°

