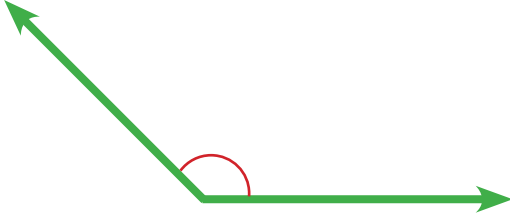
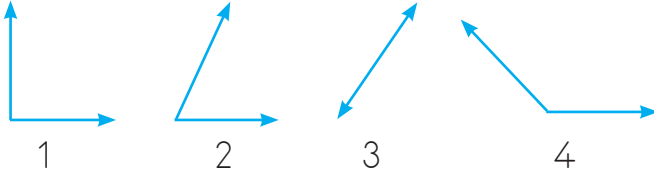


MINİ DEĞERLENDİRME



① Yukarıdaki açının çeşidi aşağıdakilerden hangisidir?

- A. Dik açı
B. Dar açı
C. Geniş açı
D. Doğru açı



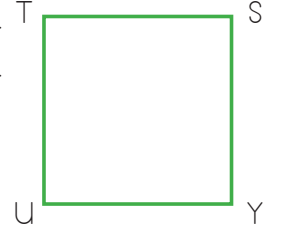
② Yukarıdaki açıların isimleri hangi seçenekte doğru sıralanmıştır?

	1	2	3	4
A.	dik açı	dar açı	doğru açı	geniş açı
B.	dik açı	dar açı	geniş açı	doğru açı
C.	dar açı	dik açı	doğru açı	geniş açı
D.	geniş açı	dar açı	doğru açı	geniş açı

③ Dar açı en fazla kaç derece olur?

- A. 60°
B. 89°
C. 110°
D. 179°

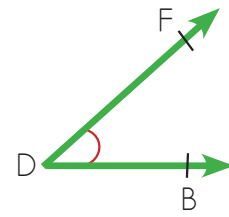
④ Yandaki karenin isimlendirilmesi hangi şıkta doğru verilmiştir?



- A. STUY karesi
B. YTUS karesi
C. USTY karesi
D. YSUT karesi

⑤ Karenin her açısının ölçüsü derecedir. Noktalı kısma aşağıdaki şıklardan hangisi gelmelidir?

- A. 90°
B. 75°
C. 60°
D. 45°



⑥ Yukarıdaki açının isimlendirilmesi hangi şıkta yanlış verilmiştir?

- A. \widehat{FDB} açısı
B. \widehat{DFB} açısı
C. \widehat{D} açısı
D. \widehat{BFD} açısı

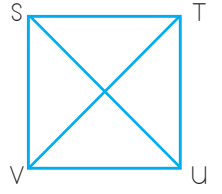
7 Dört açısının ölçüsü ve kenar uzunlukları eşit olan çokgen hangisidir?

- A. Dikdörtgen
B. Üçgen
C. Çember
D. Kare

8 Aşağıdakilerden hangisi dikdörtgenin özellikleri arasında yer almaz?

- A. Açılarının her biri 90° 'dir.
B. Dört kenarının uzunluğu eşittir.
C. Köşegen uzunlukları birbirine eşittir.
D. Karşılıklı kenarlarının uzunlukları birbirine eşittir.

10 STVU şekli bir karedir. Buna göre yandaki şekilde kaç tane dik üçgen vardır?

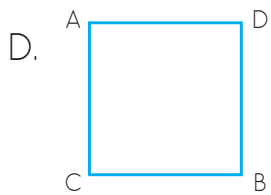
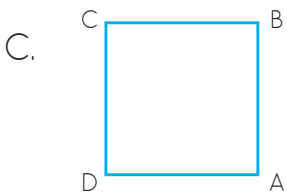
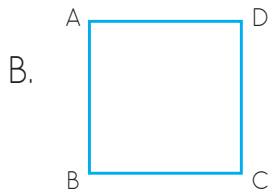
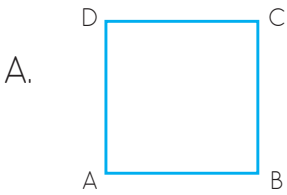


- A. 4
B. 6
C. 8
D. 10

11 Açılarının biri 100° olan üçgenin diğer açılarından biri kaç derece olamaz?

- A. 30°
B. 60°
C. 70°
D. 80°

9 Aşağıdakilerden hangisi DCBA karesi olarak adlandırılmaz?



12 Aşağıdakilerden hangisi RMST karesinin bir kenarı olamaz?

- A. RS
B. TR
C. MS
D. MR