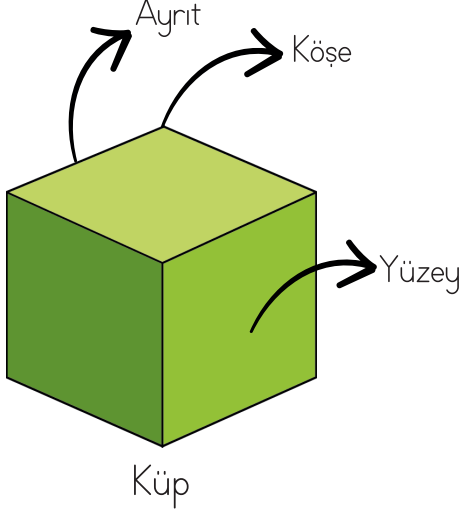


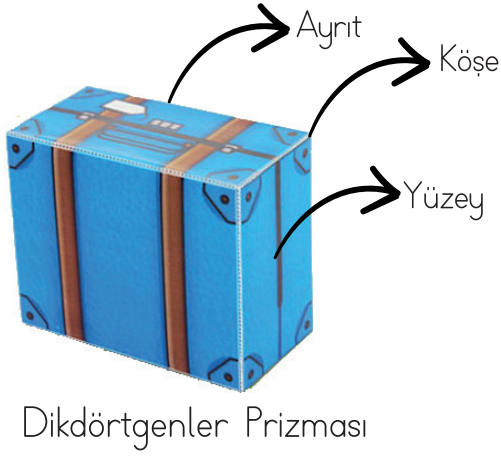

# GEOMETRİK CİSİMLER YÜZ, KÖŞE, AYRIT

● Geometrik cisimleri ve açınımlarını inceleyip noktalı yerleri doldurunuz.



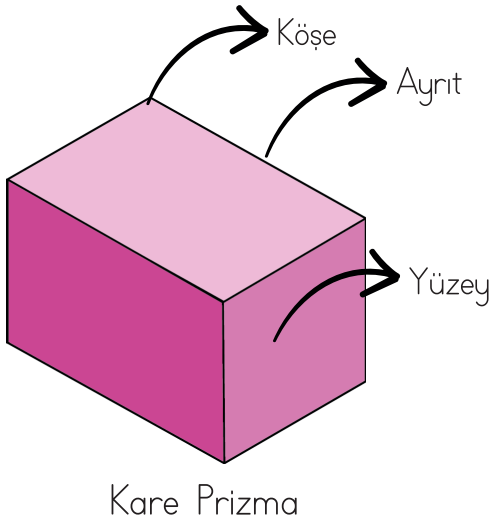
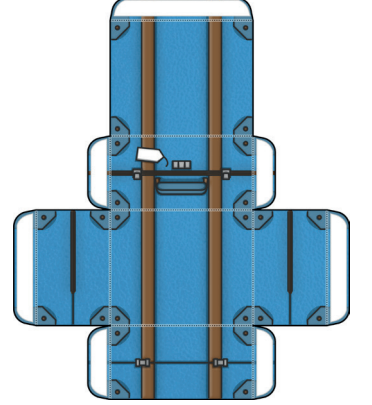
## Kimlik Kartı

Köşe Sayısı: .....  
Ayrıt Sayısı: .....  
Yüz Sayısı: .....  
Küpün yüzleri  
..... şeklindedir.



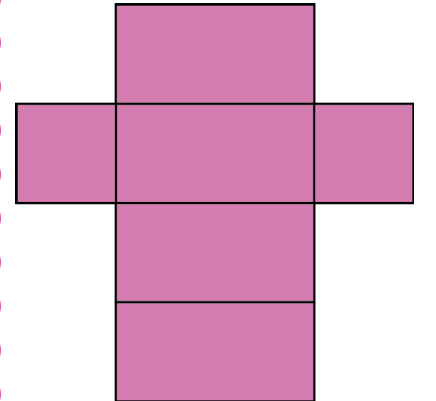
## Kimlik Kartı

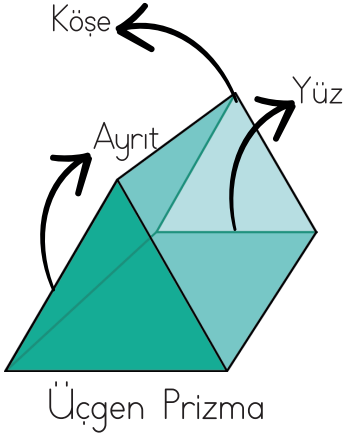
Köşe Sayısı: .....  
Ayrıt Sayısı: .....  
Yüz Sayısı: .....  
Dikdörtgenler  
Prizmasının yüzleri  
..... şeklindedir.



## Kimlik Kartı

Köşe Sayısı: .....  
Ayrıt Sayısı: .....  
Yüz Sayısı: .....  
Kare prizmanın 2 yüzü  
..... bölge,  
4 yüzü .....  
şeklindedir.





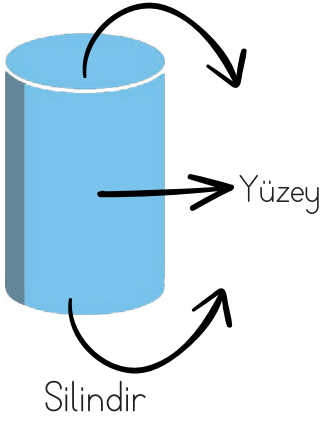
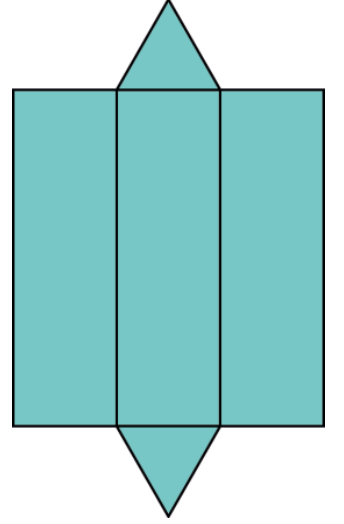
**Kimlik Kartı**

Köşe Sayısı: .....

Ayrıt Sayısı: .....

Yüz Sayısı: .....

Üçgen prizmanın 2 yüzü ..... bölge, 3 yüzü ..... şeklindedir.



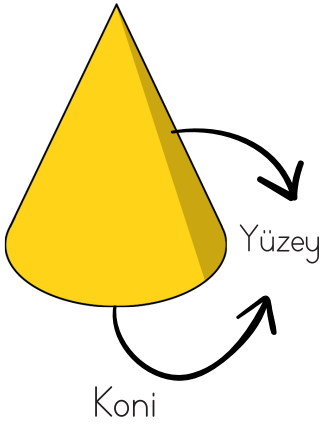
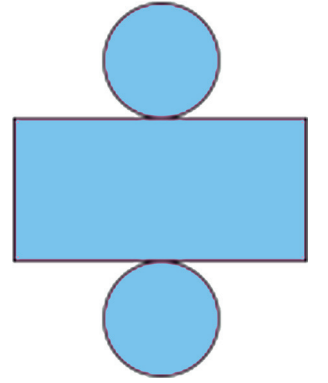
**Kimlik Kartı**

Köşe Sayısı: .....

Ayrıt Sayısı: .....

Yüzey Sayısı: .....

Silindirin 2 yüzü ..... bölge, yan yüzünün açık şekli ..... şeklindedir.





**Kimlik Kartı**

Köşe Sayısı: .....

Ayrıt Sayısı: .....

Yüz Sayısı: .....

Koninin 1 yüzü ..... şeklindedir.



**Kimlik Kartı**

Köşe Sayısı: .....

Ayrıt Sayısı: .....

Yüz Sayısı: .....

