


Aşağıdaki nesnelere ikişerli gruplayıp soruları yanıtlayınız.




Kaç tane kuş var?

Her grupta kaç tane var?

Kaç tane grup oldu?

Aşağıdaki nesnelere üçerli gruplayıp soruları yanıtlayınız.




Kaç tane tavşan var?

Her grupta kaç tane var?

Kaç tane grup oldu?

Aşağıdaki nesnelere dörderli gruplayıp soruları yanıtlayınız.




Kaç tane fincan var?

Her grupta kaç tane var?

Kaç tane grup oldu?

Aşağıdaki nesnelere beşerli gruplayıp soruları yanıtlayınız.



Kaç tane çiçek var?

Her grupta kaç tane var?

Kaç tane grup oldu?