

3.SINIFLAR
1. DÖNEM SONU
KAZANIM ÖLÇME
TESTİ

ADI						SINIFI	3-A
SOYADI						NO	
TÜRKÇE		MATEM.		FEN BİL.		HAYAT B.	
D	Y	D	Y	D	Y	D	Y

MERZİFON-2020

TÜRKÇE TESTİ

Dilimizde gereken yerlerde büyük harf kullanmak bir yazım kuralıdır. Örneğin kurum ve kuruluş adlarının ilk harfleri büyük harfle başlar. "Türk Dil Kurumu" örneğinde olduğu gibi.

1- Bu metnin türü aşağıdakilerden hangisidir?

- A) Bilgilendirici metin
- B) E-posta
- C) Hikâye



2- "Dokunmak" sözcüğü hangi balonda "sağlığını bözmek" anlamında kullanılmıştır?

- A) Sarı
- B) Pembe
- C) Mavi

Biz kelimeler ile düşünürüz. Bu nedenle bir kişi ne kadar çok kelime bilirse o kadar geniş düşünebilir. Kitap okuyarak kelime hazinemiz geliştiği için düşünme becerimiz de gelişmiş olur.

3- Bu metnin konusu aşağıdakilerden hangisidir?

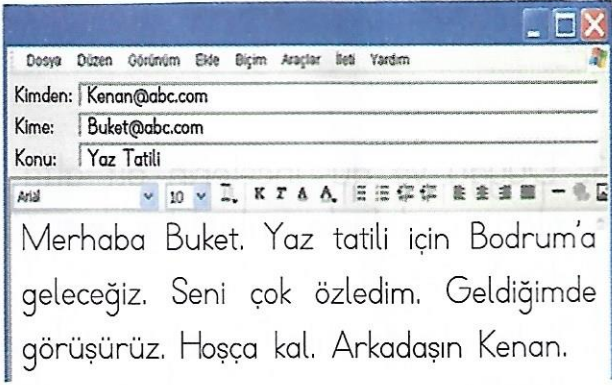
- A) Kelimelerin düşünmeye etkisi
- B) Kelime öğrenebilme yolları
- C) Kelimelerin ilginç yönleri

4- "Bizi görünce Gürkan'ın ağız kulaklarına vardı." cümlesinde anlatılmak istenen aşağıdakilerden hangisidir?

- A) Gürkan, bizi görünce şaşırды.
- B) Gürkan, bizi görünce telaşlandı.
- C) Gürkan, bizi görünce sevindi.

5- "Otobüsün gidişi kaplumbağayı andırıyordu." cümlesinde anlatılmak istenen aşağıdakilerden hangisidir?

- A) Otobüs çok yavaş gidiyordu.
- B) Otobüs çok hızlı gidiyordu.
- C) Otobüs hiç gitmiyordu.



6- Bu metnin türü aşağıdakilerden hangisidir?

- A) Hikâye B) Günlük
C) E-posta



Arı hayalî ifadenin yer aldığı çiçeğe konacaktır.

7- Buna göre arı hangi çiçeğe konmalıdır?

A.

Güneş birazdan batacak.

B.

Bulutlar onu görünce duygulandı.

C.

Akşama kadar yağmur yağdı.

❁ Mustafa Samsun'a kedisi be-nekliyi de götürdü.

❁ Türkiye'nin başkenti Ankara'dır.

❁ Ülkemizin en yüksek dağı Ağrı Dağı'dır.


8- Yukarıdaki cümlelerin hangisinde özel adların yazımıyla ilgili yanlışlık yapılmıştır?

- A. ❁ B. ❁ C. ❁

Ay() çok korktum()

9- Bu cümlede yay ayraçla () gösterilen yerlere aşağıdaki noktalama işaretlerinden hangileri gelmelidir?

- A) (?), (,) B) (!), (') C) (.), (!)



10- sözcüklerinden hangisi sözlükte diğerlerinden önce gelir?

- A) soba B) saatçi C) saygılı

Eda sevinçle bağırdı()
() Yaşasın() Tatile gidiyoruz()

11- Bu yazıda () içlerine sırasıyla hangi noktalama işaretleri gelmelidir?

- A) (:)(-)(!)(.)
B) (:)(-)(,)(!)
C) (,)(-)(!)(!)

Sebep	Sonuç
?	Hasta oldu.

12- Yukarıdaki boşluğa aşağıdakilerden hangisi getirilemez?

- A. Soğuk su içti
B. Kardeşiyle kavga etti.
C. Düzensiz beslendi.



13- Numaralandırılmış sözcüklerden hangisi varlığın rengini bildirmektedir?

- A. 1 B. 2 C. 3



14- Yukarıdaki görselle ilgili bir hikâye yazılsa başlığı ne olabilir?

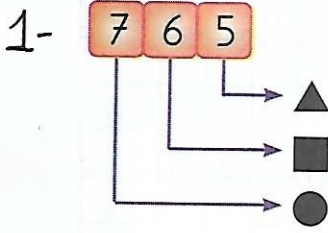
- A) Elif'in Hastalığı
B) Elif'in Annesi
C) Elif'in Arkadaşları



15- Yukarıdaki cümlede "güz" sözcüğü yerine hangisi getirilemez?

- A) sonbahar B) hazan C) kış

MATEMATİK TESTİ



Yandaki sayının basamak değerleri hangisinde verilmiştir?

- | | | | |
|----|-----|-----|-----|
| | ▲ | ■ | ● |
| A) | 5 | 60 | 700 |
| B) | 500 | 60 | 7 |
| C) | 50 | 600 | 70 |

Tablo: Okunan Kitaplar

Kitap	Sayısı
Hikâye	### ### ###
Masal	### ////
Şiir	////

2- Yukarıdaki çetele tablosuna göre okunan kitap sayısı toplamı kaçtır?

- A. 28 B. 29 C. 30

Tek sayı ile tek sayının toplamı çift sayıdır.

3- Yukarıdaki açıklamaya örnek olarak hangisi verilebilir?

- A) $\begin{array}{r} 202 \\ + 108 \\ \hline \end{array}$ B) $\begin{array}{r} 189 \\ + 206 \\ \hline \end{array}$ C) $\begin{array}{r} 97 \\ + 75 \\ \hline \end{array}$



4- Yukarıdaki tren saatte 185 km hızla gitmektedir.

Trenin hızı en yakın hangi onluğa yuvarlanır?

- A) B) C)

$$20 + 30 = 50$$

$$4 + 8 = 12$$

$$50 + 12 = 62$$

5- Yukarıda zihinden yapıışı gösterilen işlem aşağıdakilerden hangisidir?

A. $26 + 36 = 62$

B. $24 + 38 = 62$

C. $50 + 12 = 62$

$$\begin{array}{r}
 3 \blacksquare 5 \\
 \blacktriangle 52 \\
 + 361 \\
 \hline
 978
 \end{array}$$

6- Yukarıdaki toplama işleminde verilmeyen rakamlar hangi leridir?

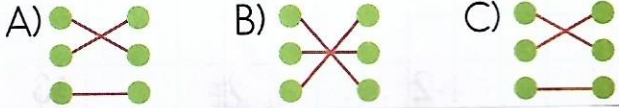
- A) $\blacksquare \rightarrow 6$ B) $\blacksquare \rightarrow 6$ C) $\blacksquare \rightarrow 5$
 $\blacktriangle \rightarrow 2$ $\blacktriangle \rightarrow 1$ $\blacktriangle \rightarrow 1$

VII 9

XIV 14

IX 7

7- Yukarıdaki sayılar Romen rakamlarıyla eşleştirilirse şeklin görüntüsü hangisi olur?



Bir terzi, her gün bir önceki gün aldığı siparişin 30 fazlası kadar sipariş almaktadır.

8- İlk gün 100 sipariş alan terzi, üç günde toplam kaç sipariş almış olur?

- A. 380 B. 390 C. 400



Camcı Cemal usta, elinde bulunan toplam 743 metrelik camın 317 metresini takıyor. Cemal usta, 85 metre camı ise yanlışlıkla düşürüp kırıyor.

9- Buna göre Cemal ustanın elinde kaç metre cam kalır?

- A) 341 B) 426 C) 586



Kitap okumayı seven Melisa, yaz tatilinde üç tane kitap okumuştur. Okuduğu kitaplardan biri 216 sayfa, diğeri 179 sayfadır.

10- Melisa'nın okuduğu toplam sayfa sayısı 478 sayfa olduğuna göre, okuduğu üçüncü kitap kaç sayfadır?

- A) 262 B) 123 C) 83

Bir çiftlikte 132 koyun, 128 keçi ve keçilerin sayısından 11 fazla da inek vardır.

11- Buna göre, çiftlikteki hayvanların toplam sayısı kaçtır?

- A. 299 B. 399 C. 499



Yaban kazları havalar soğduğunda daha sıcak olan yerlere göç ederler. Yaban kazları bir günde ortalama 47 km uçuyorlar.

12- 15 gün sonra gidecekleri sıcak yerlere ulaşan kazlar kaç kilometre yol gitmişlerdir?

- A) 695 km
B) 705 km
C) 715 km



$$\begin{array}{r} 176 \\ \times \quad 5 \\ \hline 8 \star 0 \end{array}$$

13- Yukarıda verilen çarpma işleminde "★" ile belirtilen basamaktaki rakam kaçtır?

- A. 3 B. 8 C. 9

$$\begin{array}{r} \text{◇} \quad | \quad 5 \\ \hline 5 \quad | \quad 17 \\ \hline 37 \\ \hline 35 \\ \hline 02 \end{array}$$

14- Bölme işleminde verilmeyen "◇" sayısı aşağıdaki işlemlerden hangisi ile bulunabilir?

- A. $17 \times 5 = 85$
 $85 - 2 = 83$
B. $17 \times 5 = 85$
 $85 + 2 = 87$
C. $2 \times 5 = 10$
 $10 + 27 = 27$

15- Bir kantine gelen 3 kutuda, toplam 72 çikolata vardır.

Her kutuda eşit sayıda çikolata olduğuna göre bir kutuda kaç çikolata vardır?

- A. 20 B. 24 C. 25

FEN BİLİMLERİ TESTİ

(...) Geçmişte insanlar, Dünya'nın şeklinin düz tepsiye benzediğini düşünüyorlardı.

(...) Pisagor, Dünya'nın yuvarlak olduğu ortaya koyan ilk bilim insanıydı.

(...) Darwin, yaptığı deniz yolculuğu ile Dünya'nın yuvarlak olduğunu keşfetmiştir.

1- Buna göre boşluklarda yukarıdan aşağıya hangileri yazılmalıdır?

- | | | |
|------|------|------|
| A) D | B) Y | C) D |
| D | Y | D |
| Y | D | D |

Dünya'mızı saran hava tabakasında gazı bulunur.

2- Cümlesindeki boşluğa aşağıdakilerden hangisi yazılamaz?

- | | |
|------------|----------|
| A) oksijen | B) demir |
| C) azot | |

Duyu organlarımızla maddeleri bazı özelliklerine göre nitelendiririz.

3- Hangi seçenekteki maddeleri dokunarak ayırt edebiliriz?

- A. Tuzlu su - şekerli su
B. Sünger - tahta
C. Süt - ayran

● Kuvvet, duran bir cisme etki etmez.

▲ Kuvvet, hareket hâlindeki bir cismi durdurabilir.

■ Kuvvet cisimlerin şeklini değiştirebilir.


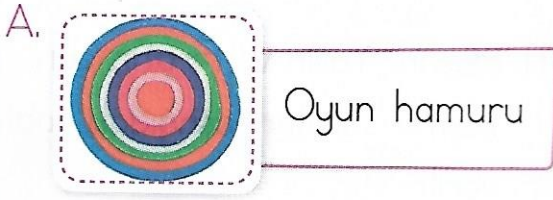
4- Kuvvetin özellikleri ile ilgili yukarıda verilen bilgilerden hangisi veya hangileri doğrudur?

- A) Yalnız ▲
B) ▲ ve ■
C) ●, ▲ ve ■

5- Aşağıdakilerden hangisi yön değiştirme hareketi yapar?




6- Aşağıdakilerden hangisine uygulanan kuvvet kaldırıldığında cisim önceki şekline geri döner?



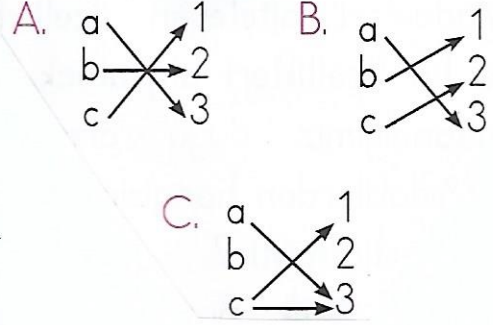
- Belirli bir şekli yoktur.
- Bulunduğu kabın şeklini alır.
- Bir yerden başka bir yere akabilir.

7- Özellikleri verilen madde aşağıdakilerden hangisi olabilir?



- | | |
|---------------|---------|
| a. zeytinyağı | 1. gaz |
| b. elma | 2. katı |
| c. duman | 3. sıvı |

8- Verilen maddeler ve maddenin hâlleri eşleştirildiğinde aşağıdakilerden hangisine ulaşılır?



Maddeler katı, sıvı ve gaz hâlde bulunabilirler.



Gülçin

Katı maddelerin belirli şekilleri vardır.



Erdinç

Gaz maddelerin belirli şekilleri yoktur.





Sevinç


9- Yukarıdaki öğrencilerden hangilerinin ifadesi doğrudur?

- A. Gülçin ve Erdinç
B. Gülçin ve Sevinç
C. Gülçin, Erdinç ve Sevinç

10- Aşağıdakilerden hangisi ışık kaynağı **değildir**?



Gündüzleri çevremizi Güneş ışığı sayesinde görebiliriz.



İşığın olmadığı yerlerde çevremizi göremeyiz.



Gözlerimiz sağlıklıysa ışık olmasa da çevremizi görürüz.



11- Yukarıdaki öğrencilerden hangisinin ifadesi **yanlıştır**?

- A. Elif
B. Elif ve Levent
C. Elif ve Emel



12- Ağaçtaki kuşun sesini en iyi hangi çocuk işitebilir?

- A. Ersin B. Nilgün C. Yusuf

13- "Ses hâlinde yayılır." Cümlede ile gösterilen yeri hangi kelime ile tamamlarız?

- A) doğrular
B) dalgalar
C) ışınlar

gitar	1	kuş	2	araba	3
rüzgâr	4	keman	5	şelale	6
ambulans	7	yağmur	8	davul	9

14- Yukarıdaki tabloda numaralanarak verilmiş olan ses kaynaklarından hangileri doğal ses kaynağıdır?

- A. 1, 3, 5, 7 ve 9
B. 2, 4, 6 ve 8
C. 1, 2, 3, 4, 5, 6, 7, 8 ve 9

Yağan yağmuru pencereden izleyen İdil, önce şimşek çaktığını görüyor. Ardından gök gürültüsünü duyuyor.

15- Bu olayın nedeni aşağıdakilerden hangisidir?

- A) Yağmur çok şiddetli yağmaktadır.
B) Işığın hızı, sesin hızından büyüktür.
C) Sesin hızı, ışığın hızından büyüktür.

HAYAT BİLGİSİ TESTİ

- Resim yapma yeteneği olan bir öğrenci, gitar kursuna giderek kendini geliştirmelidir.
- Futbol takımında oynayan bir öğrenci, takım arkadaşlarıyla iş birliği yapmalıdır.
- Derslerinde başarılı olmak isteyen bir öğrenci, planlı bir şekilde ders çalışmalıdır.

1- Buna göre ifadelerin başındaki kutucuklara sırasıyla aşağıdakilerden hangileri yazılmalıdır?

- A. D - Y - Y
- B. D - D - Y
- C. Y - D - D



2- Arkadaşlarımızda olmasını istemediğimiz yaprağı koparırsak çiçeğin görüntüsü nasıl olur?

- A.
- B.
- C.

3- Aşağıdakilerden hangisi günümüzün en hızlı ulaşım araçlarından biridir?

- A)
- B)
- C)



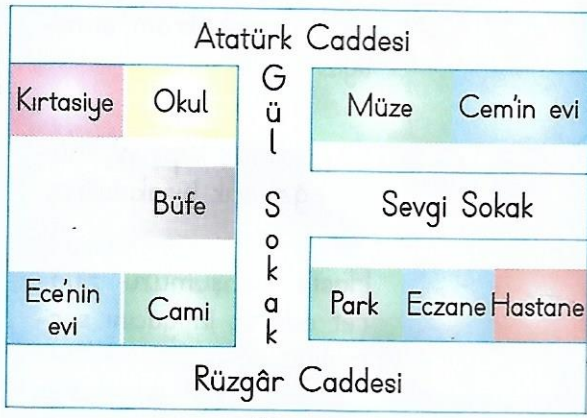
Sağlıklı büyü-
yebilmek için
.....
beslenmeliyiz.

4- Büşra'nın ifadesinde boş bırakılan yere aşağıdakilerden hangisi gelmelidir?

- A. dengeli
- B. düzensiz
- C. canımızın istediği gibi

5- Aşağıdakilerden hangisi dedemizin çocukluğunda olan teknolojik aletlerden biri **değildir**?

- A.
- B.
- C.



6. ve 7. soruları yukarıdaki krokiye göre cevaplayınız.

6- Ece'nin evinin doğusunda hangisi vardır?

- A) Kırtasiye B) Okul C) Cami

7- Müze, parkın hangi yönündedir?

- A) Kuzey B) Batı C) Güney

8- Aşağıdakilerden hangisi yaz aylarında tüketmemiz gereken bir meyve değildir?

A.



B.



112



110



155

İhtiyaçlarımızı sırasına koymalıyız.

Evdeki kaynaklar tüketilmelidir.

9- Cümlelerdeki semboller yerine hangi kelimeler gelmelidir?



A. pahalılık

ucuzluk

B. öncelik

bilinçli

C. öncelik

bilinçsiz

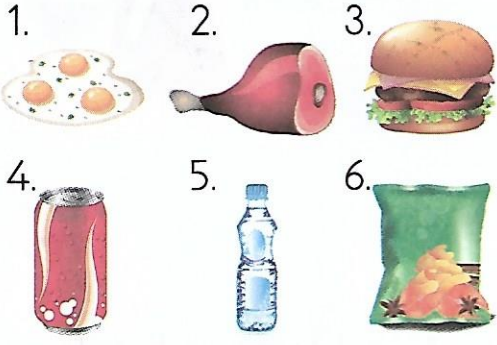
10- Yukarıdaki cümleler ile aranacak numarada anlamlı eşleştirmesinden hangisi doğrudur?

A.

B.

C.


D.



11- Sağlıklı beslenmek için vücudumuzun ihtiyacı olan besinler hangisinde doğru verilmiştir?

- A) 1, 2 ve 3 B) 4, 5 ve 6
C) 1, 2 ve 5

12- Aşağıdakilerden hangisi ihtiyaçtır?



- ♥ Saklambaç
● Tombik
▲ Yakan top

13- Sembollerle belirtilen oyunlardan hangileri günümüzde oynanan oyunlardandır?

- A. ♥ ve ● B. ● ve ▲
C. ♥, ● ve ▲



Bir malı satın alırken TSE belgesi, garanti belgesi, fatura gibi belgelerinin olmasına dikkat ederim.

14- Buna göre Ahmet Bey için hangisi söylenebilir?

- A) Bilinçli bir tüketicidir.
B) Hesaplıdır.
C) Takıntılı bir insandır.



Zeynep

Mecburi Yaya Yolu İşareti

15- Zeynep'in söylediği trafik işareti aşağıdakilerden hangisidir?

