

RESİM KÖŞESİ

Kitapçık Hakkında

Bu kitapçıkta konu tekrarı amaçlı etkinlikler ve dikkat geliştirici eğlenceli çalışmalar bulunmaktadır. Yönergeler veliler ve öğretmenler için hazırlandığından küçük puntolarla yazılmıştır. Faydalı olması dileğiyle.

Kontrol Edenin Adı İmzası

1. SINIF EĞLENCELİ ÇALIŞMALAR 6

18 Eğlenceli Çalışma

6 Problem



ilkokul1.com

Adı Soyadı:

Sınıfı :

Okulu :

Yunus KÜLCÜ

ALFABEMİZ (ÖNCEKİ SONRAKİ HARF)

"←" işareti verilen harften önceki harfi, "→" işareti ise verilen harften sonraki harfi göstermektedir. Çalışmayı doğru şekilde tamamlayabilmen için harflerin sıralanışını iyi bilmen gerekir. Aşağıya alfabeği yazman işini oldukça kolaylaştıracaktır.

Verilen Yönerge	L←; B←; U←; J→; İ←
Oluşan Gizli Kelime	
Verilen Yönerge	R←; İ←; S←; B←; R→; B←
Oluşan Gizli Kelime	
Verilen Yönerge	Ğ←; P←; S←; U→; O←; Ş→; V←
Oluşan Gizli Kelime	

TOPLAMA TABLOLARI

Aşağıdaki toplama tablolarındaki boşlukları doldurun.

+	3	6	7
15			
17			
16			
20			

+	5	6	2
9			
13			
2			
20			

ŞİFRELİ TOPLAMA İŞLEMLERİ

Aşağıdaki işlemleri yapın ve şifreyi bulun.



K	N	A	İ	U	K						
2	10	1	7	1	9						
+ 7	+ 4	+ 10	+ 11	+ 5	+ 10						
Y	C	U	İ	O	*						
8	10	14	8	7	3						
+ 8	+ 5	+ 3	+ 2	+ 6	+ 5						
11	19	18	15	10	8	13	9	6	16	17	14

Modellere uygun çıkarma işlemlerini yan taraftaki boşluklara örnekteki gibi yazın.

<input type="checkbox"/> <input type="checkbox"/> <input type="checkbox"/> <input checked="" type="checkbox"/> <input checked="" type="checkbox"/> <input checked="" type="checkbox"/> <input checked="" type="checkbox"/> <input checked="" type="checkbox"/>	$8 - 5 = 3$
<input type="checkbox"/> <input type="checkbox"/> <input type="checkbox"/> <input type="checkbox"/> <input type="checkbox"/> <input checked="" type="checkbox"/> <input checked="" type="checkbox"/> <input checked="" type="checkbox"/> <input checked="" type="checkbox"/> <input checked="" type="checkbox"/> <input checked="" type="checkbox"/>	
<input type="checkbox"/> <input type="checkbox"/> <input type="checkbox"/> <input type="checkbox"/> <input checked="" type="checkbox"/> <input checked="" type="checkbox"/> <input checked="" type="checkbox"/> <input checked="" type="checkbox"/>	
<input type="checkbox"/> <input type="checkbox"/> <input type="checkbox"/> <input type="checkbox"/> <input checked="" type="checkbox"/> <input checked="" type="checkbox"/>	
<input type="checkbox"/> <input type="checkbox"/> <input type="checkbox"/> <input checked="" type="checkbox"/> <input checked="" type="checkbox"/> <input checked="" type="checkbox"/> <input checked="" type="checkbox"/> <input checked="" type="checkbox"/> <input checked="" type="checkbox"/>	
<input type="checkbox"/> <input type="checkbox"/> <input checked="" type="checkbox"/> <input checked="" type="checkbox"/>	
<input type="checkbox"/> <input type="checkbox"/> <input type="checkbox"/> <input type="checkbox"/> <input type="checkbox"/> <input type="checkbox"/> <input type="checkbox"/> <input type="checkbox"/> <input checked="" type="checkbox"/> <input checked="" type="checkbox"/>	

Aşağıdaki işlemleri yapın ve şifreyi bulun.



R	$7 + 12 = \dots$	*	$2 + 12 = \dots$	U	$5 + 3 = \dots$
---	------------------	---	------------------	---	-----------------

T	$5 + 8 = \dots$	Ğ	$7 + 9 = \dots$	N	$2 + 8 = \dots$
---	-----------------	---	-----------------	---	-----------------

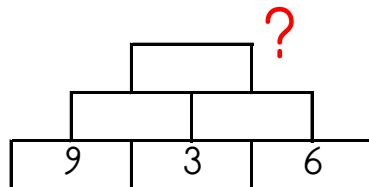
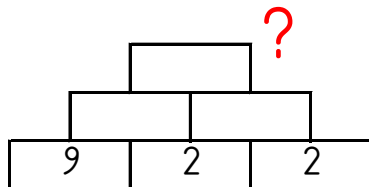
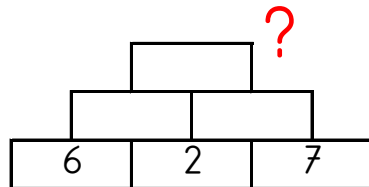
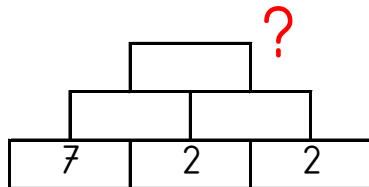
Ö	$4 + 3 = \dots$	E	$8 + 4 = \dots$	İ	$3 + 1 = \dots$
---	-----------------	---	-----------------	---	-----------------

O	$8 + 10 = \dots$	A	$2 + 7 = \dots$	*	$6 + 9 = \dots$
---	------------------	---	-----------------	---	-----------------

P	$14 + 3 = \dots$	K	$3 + 2 = \dots$	K	$1 + 10 = \dots$
---	------------------	---	-----------------	---	------------------

11	4	13	9	17	15	18	5	8	14	7	16	19	12	10

Altındaki iki kutunun toplamını bir üst kutuya yazarak en üstteki sayıyı bul ve işaretle.



17 15 21 13 7

MINİ TEKRAR ÇALIŞMASI 2

Aşağıdaki işlemleri yapın ve şifreyi bulun.

B	$9 + 4 = \dots$	Ü	$15 - 6 = \dots$	T	$2 + 12 = \dots$
A	$4 + 14 = \dots$	L	$9 - 5 = \dots$	S	$17 - 7 = \dots$
İ	$4 + 11 = \dots$	L	$4 + 7 = \dots$	M	$9 - 8 = \dots$
İ	$8 + 4 = \dots$	O	$11 - 8 = \dots$	O	$2 + 6 = \dots$

3	14	8	13	9	10	18	11	15	1	4	12

Aşağıdaki tabloda bulunan boşlukları doldurun

<i>DÜN</i>	<i>BUGÜN</i>	<i>YARIN</i>
SALI		
CUMA		
		PAZARTESİ

Aşağıdaki boşlukları doldurun.

35	40	45			
2	3	4			
6	8	10			
8	7	6			

MINİ TEKRAR ÇALIŞMASI 3

Aşağıdaki zıt anlamlı kelimeleri eşleştirin ve şifreyi bulun.

1 DOĞRU	N ZOR	6 ARKA	A ÜZGÜN
2 ÇUKUR	B YANLIŞ	7 MUTLU	A BAYAT
3 GECE	U TÜMSEK	8 YARAMAZ	Y USLU
4 SERT	U YUMUŞAK	9 İLERİ	F GERİ
5 KOLAY	R GÜNDÜZ	10 TAZE	S ÖN





1	2	3	4	5	6	7	8	9	10

Aşağıdaki noktalı alanları doldurun.

Yılın 1. ayı	Yılın ilk ayı	Yılın 11. ayı	Yılın 9. ayı
.....

EŞİ OLMAYANI BUL

Aşağıdaki her bir kutuda eş olmayan şekli bulun ve işaretleyin.



GİZLİ KUTULAR (SONUCU 10)

$9 + 4$	$2 + 9$	$16 - 8$	$2 + 5$	$9 + 3$	$18 - 7$	$16 - 8$
$11 - 3$	$17 - 4$	$12 - 6$	$1 + 7$	$18 - 9$	$12 - 4$	$14 - 2$
$19 - 6$	$16 - 7$	$2 + 5$	$3 + 4$	$3 + 8$	$4 + 5$	$9 + 2$
$6 + 8$	$14 - 1$	$14 - 7$	$6 + 8$	$5 + 5$	$3 + 6$	$8 + 5$
$17 - 8$	$5 + 2$	$13 - 4$	$18 - 7$	$7 + 1$	$4 + 8$	$2 + 9$
$17 - 7$	$20 - 8$	$5 + 7$	$7 + 3$	$2 + 8$	$4 + 3$	$17 - 7$

Bu işlem kutularının arasında sonucu 10 olan 5 kutu gizlenmiştir. Bu kutuları bulabilir misin?

TOPLA, ÇIKAR VE İLERLE

Sırasıyla işlemlerin sonucunu bul ve Pepee'yi ok yönünde bulduğun sonuç kadar ilerlet.

➤	▼	◀	▲	➤	▲
17	6	3	1	2	7
- 4	- 1	+ 4	+ 1	+ 6	- 4



										D
		E								
					B				G	
F									C	
					L					

ŞİFRELİ ALFABE ÇALIŞMASI

Aşağıda verilen her bir sayı alfabemizde bulunan bir harfi temsil etmektedir. Bu sayılar harfin alfabedeki sırasını göstermektedir. (1=A, 2=B, 3=C ...)



1-9-1-4

28-1-23-14-6-17

6-9-12-15-12-21

ZİHİNDEN SAYI SORULARI

Aşağıdaki soruları zihinden çözün ve cevaplarını yazıp işaretleyin.

- | | |
|---|----|
| 1) 2 sayısının 9 fazlası kaç eder? | 12 |
| 2) 9 sayısını 2 azaltırsak sonuç kaç olur? | 4 |
| 3) 10 sayısına 8 eklersek sonuç kaç olur? | 5 |
| 4) 3 sayısını 1 eksiltirsek sonuç kaç olur? | 18 |
| 5) 7 sayısını 1 eksiltirsek sonuç kaç olur? | 3 |
| 6) 6, 4 daha kaç eder? | 11 |
| 7) 7 sayısını 6 eksiltirsek sonuç kaç olur? | 6 |
| 8) 8 sayısının 3 eksiği kaç eder? | 2 |
| 9) 8 sayısından 5 çıkarırsak sonuç kaç olur? | 8 |
| 10) 5 sayısına 7 eklersek sonuç kaç olur? | 7 |
| 11) 10 sayısından 6 sayısını çıkarırsak sonuç kaç olur? | 1 |
| 12) 10 sayısını 2 eksiltirsek sonuç kaç olur? | 10 |

ZİHİNDEN ZİNCİRLEME SAYI PROBLEMLERİ

Aşağıdaki soruları zihinden çözün ve cevaplarını yazıp işaretleyin.

- | | |
|--|----|
| 1) 10 sayısının 2 eksiğinin 4 fazlası kaç eder? | 3 |
| 2) 4 sayısının 3 eksiğinin 7 fazlası kaç eder? | 4 |
| 3) 4 sayısının 2 eksiğinin 7 fazlası kaç eder? | 10 |
| 4) 4 sayısının 10 fazlasının 1 eksiği kaç eder? | 13 |
| 5) 3 sayısının 3 fazlasının 1 eksiği kaç eder? | 9 |
| 6) 8 sayısının 1 eksiğinin 3 fazlası kaç eder? | 7 |
| 7) 2 sayısının 4 fazlasının 3 eksiği kaç eder? | 12 |
| 8) 10 sayısının 3 fazlasının 2 eksiği kaç eder? | 5 |
| 9) 9 sayısının 9 fazlasının 2 eksiği kaç eder? | 6 |
| 10) 5 sayısının 1 eksiğinin 3 fazlası kaç eder? | 11 |
| 11) 10 sayısının 5 eksiğinin 1 fazlası kaç eder? | 16 |
| 12) 2 sayısının 5 fazlasının 3 eksiği kaç eder? | 8 |

SUDOKU (KOLAY SEVİYE)

Her satır ve sütunda 1,2,3,4,5 rakamlarını kullanarak boş kutuları doldurun.

	3	5	4	2
4	5		3	
5		3		4
2	4	1		3
	1	4		5

MINİ TEKRAR ÇALIŞMASI 1

$13 + \dots = 18$	$3 + 10 = \dots$	$16 - 6 = \dots$
-------------------	------------------	------------------

$\begin{array}{r} 13 \\ - 6 \\ \hline \square \end{array}$
 $\xrightarrow{+}$
 $\begin{array}{r} \square \\ + 3 \\ \hline \square \end{array}$
 $\xrightarrow{-}$
 $\begin{array}{r} \square \\ - 7 \\ \hline \square \end{array}$
 $\xrightarrow{+}$
 $\begin{array}{r} \square \\ + 14 \\ \hline \square \end{array}$
 $\xrightarrow{-}$
 $\begin{array}{r} \square \\ - 5 \\ \hline \square \end{array}$
 \rightarrow (.....)

Kelimelerin zıt anlamlarını karşılarına yazın.

GUZEL	Ç.....	AGIR	H.....
AZ	F.....	HASTA	S.....

Aşağıdaki kelimeleri sözlük sırasına göre numaralandırın.

UNUTMAK	ELDİVEN	AZIK
ZELZELE	KAZAK	FİLİZ
BİTKİ	BRAVO	UĞURLU