

RESİM KÖŞESİ

Kitapçık Hakkında

Bu kitapçıkta konu tekrarı amaçlı etkinlikler ve dikkat geliştirici eğlenceli çalışmalar bulunmaktadır. Yönergeler veliler ve öğretmenler için hazırlandığından küçük puntolarla yazılmıştır. Faydalı olması dileğiyle.

Kontrol Edenin Adı İmzası

1. SINIF EĞLENCELİ ÇALIŞMALAR 5

18 Eğlenceli Çalışma

6 Problem



ilkokul1.com

Adı Soyadı:

Sınıfı :

Okulu :

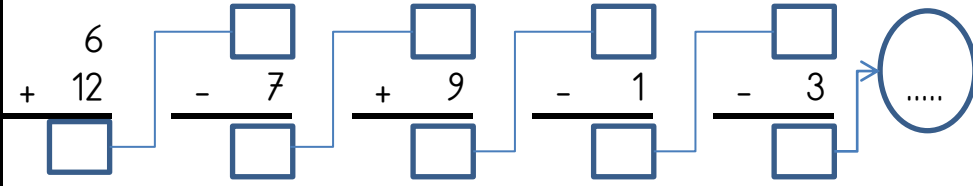
Yunus KÜLCÜ

MINİ TEKRAR ÇALIŞMASI 1

$9 - 4 = \dots\dots$

$4 + 2 = \dots\dots$

$16 + \dots\dots = 20$



Kelimelerin zıt anlamlarını karşlarına yazın.

İLERİ	G.....
ALT	Ü.....

SERT	Y.....
HASTA	S.....

Aşağıdaki kelimeleri sözlük sırasına göre numaralandırın.

DAYI		DOLAP		AŞ	
FABRİKA		DAM		BONCUK	
SÖZ		DÜŞMAN		SICAK	

GİZLİ KUTULAR (SONUCU 10)

7 - 1	4 + 9	8 - 1	4 + 6	20 - 7	11 - 2	8 + 6
14 - 5	15 - 2	2 + 8	3 + 6	17 - 4	4 + 5	3 + 9
17 - 3	7 - 1	13 - 2	8 + 2	15 - 6	3 + 7	4 + 4
13 - 7	9 + 5	5 + 7	6 + 4	13 - 3	6 + 7	12 - 4
17 - 7	5 + 2	14 - 5	7 + 7	5 + 1	9 + 3	5 + 6
16 - 8	2 + 8	6 + 4	2 + 6	17 - 9	14 - 4	16 - 3

Bu işlem kutularının arasında sonucu 10 olan 10 kutu gizlenmiştir. Bu kutuları bulabilir misiniz?

ADI :

PROBLEM ÇÖZELİM



1) Ömer 5 sayısı ile 9 sayısını topluyor. Ömer' in bulduğu sonuç kaçtır?

3) Zeynep' in 7 tane cevizi var. Dedesi 5 ceviz daha verdi. Zeynep' in kaç cevizi oldu?

5) Sukeyna' nın 8 tane kurabiyesi var. Arkadaşı 9 kurabiye daha verdi. Sukeyna' nın kaç kurabiyesi oldu?

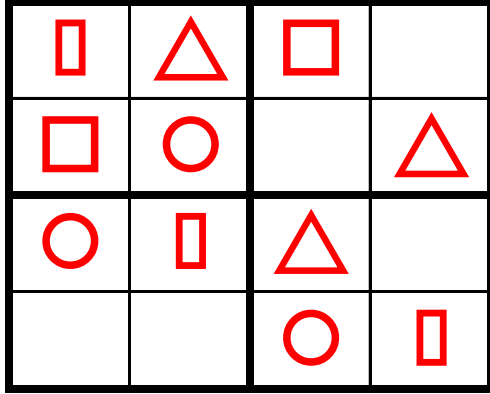
2) Zeynep' in bahçesinde 4 mandalina, 9 tane de vişne ağacı vardır. Zeynep' in bahçesinde toplam kaç ağaç vardır?

4) Bir sınıfta 8 erkek, 4 kız öğrenci vardır. Bu sınıfta toplam kaç öğrenci vardır?

6) Bir sayının 6 fazlası 8 ediyor. Bu sayı kaçtır?

ŞEKİLLİ SUDOKULAR (Seviye 1)

Çember, üçgen, kare ve dikdörtgen şekillerini; her satır, sütun ve koyu renkli alanlara, benzerleri olmayacak şekilde yerleştiriniz.



MINİ TEKRAR ÇALIŞMASI 2

Aşağıdaki işlemleri yapın ve şifreyi bulun.

Ş	$18 - 3 = \dots$
D	$18 - 6 = \dots$
I	$5 + 5 = \dots$
K	$3 + 10 = \dots$

A	$4 + 4 = \dots$
T	$4 + 5 = \dots$
R	$8 - 7 = \dots$
I	$2 + 15 = \dots$

L	$3 + 11 = \dots$
E	$9 - 2 = \dots$
R	$10 + 9 = \dots$
T	$7 + 9 = \dots$

9	17	1	16	10	14	13	8	19	12	7	15

Aşağıdaki tabloda bulunan boşlukları doldurun





<i>DÜN</i>	<i>BUGÜN</i>	<i>YARIN</i>
		ÇARŞAMBA
	PAZAR	
CUMARTESİ		

Aşağıdaki boşlukları doldurun.

19	18	17		
6	8	10		
20	18	16		
65	70	75		

EŞİ OLMAYANI BUL

Aşağıdaki her bir kutuda eş olmayan şekli bulun ve işaretleyin.



ALFABEMİZ (ÖNCEKİ SONRAKİ HARF)

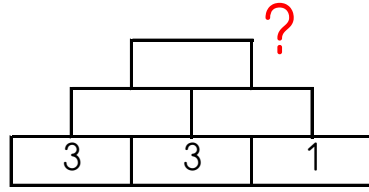
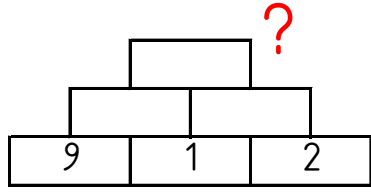
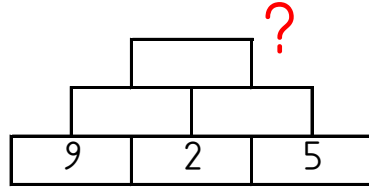
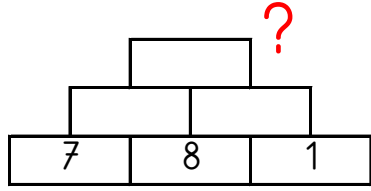
"←" işareti verilen harften önceki harfi, "⇒" işareti ise verilen harften sonraki harfi göstermektedir. Çalışmayı doğru şekilde tamamlayabilmen için harflerin sıralanışını iyi bilmen gerekir. Aşağıya alfabe yazman işini oldukça kolaylaştıracaktır.

Verilen Yönerge	D←; B←; C←; B←
Oluşan Gizli Kelime	

Verilen Yönerge	D←; Ö←; S←; B←; Ö⇒
Oluşan Gizli Kelime	

Verilen Yönerge	T⇒; B⇒; T⇒; Y⇒
Oluşan Gizli Kelime	

Altındaki iki kutunun toplamını bir üst kutuya yazarak en üstteki sayıyı bul ve işaretle.



13

24

21

18

10

ZIT ANLAMLI KELİME BULMACASI

Aşağıdaki zıt anlamlı kelime çiftlerini boyayın. Hangi kelimenin boşta kalacağını bulun.

AYNI	BAŞLANGIÇ	GÜZEL	AZALMA	DOLU
TÜMSEK	GENİŞ	YOK	BOŞ	ARTMA
DAR	FARKLI	BİTİŞ	ÇİRKİN	VAR

SUDOKU (ÇOK KOLAY SEVİYE)

Her satır ve sütunda 1,2,3,4 rakamlarını kullanarak boş kutuları doldurun.

Sudoku 1

2		3	4
3		1	2
	2	4	
4		2	1

Sudoku 2

1	2	4	
	3		1
	4	1	2
	1	3	4

EŞ ANLAMLI KELİME BULMACASI

Aşağıdaki eş anlamlı kelime çiftlerini boyayın. Hangi kelimenin boşta kalacağını bulun.

İMTİHAN	KOLAY	NAZİK	ARKA	KALP
GERİ	SINAV	BEYAZ	ZENGİN	YÜREK
BASİT	KİBAR	ULUS	MİLLET	VARLIKLİ

ZİHİNDEN SAYI SORULARI

Aşağıdaki soruları zihinden çözün ve cevaplarını yazıp işaretleyin.

- | | |
|--|----|
| 1) 6 sayısının 7 fazlası kaç eder? | 15 |
| 2) 8 sayısını 7 artırırsak sonuç kaç olur? | 6 |
| 3) 5 sayısına 1 eklersek sonuç kaç olur? | 2 |
| 4) 10 sayısını 4 artırırsak sonuç kaç olur? | 4 |
| 5) 6 sayısını 2 artırırsak sonuç kaç olur? | 12 |
| 6) 8, 3 daha kaç eder? | 13 |
| 7) 9, 3 daha kaç eder? | 10 |
| 8) 7 sayısından 5 çıkarırsak sonuç kaç olur? | 18 |
| 9) 3 sayısını 2 eksiltirsek sonuç kaç olur? | 11 |
| 10) 10 sayısından 6 çıkarırsak sonuç kaç olur? | 14 |
| 11) 8 sayısına 2 eklersek sonuç kaç olur? | 8 |
| 12) 8 sayısının 10 fazlası kaç eder? | 1 |

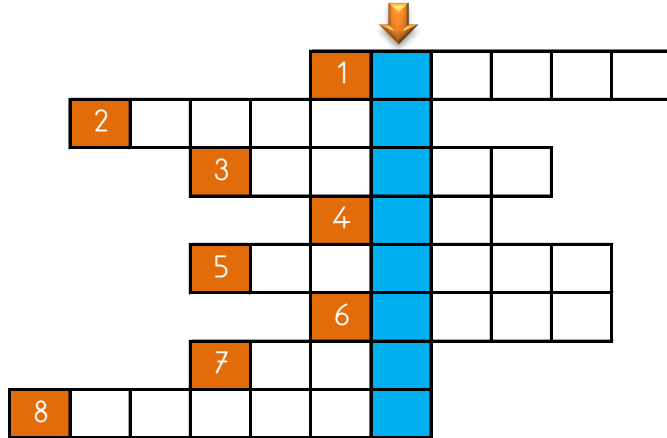
Uygun kutuları boyayarak yolu tamamlayın. (birer geri ritmik sayarak)



20	9	14	13	12	11	10	9	8	20
19	17	15	3	19	20	19	8	7	11
18	17	16	7	3	20	5	5	6	2
3	3	14	17	2	13	20	4	6	13
17	13	12	10	17	15	10	3	2	1



ZİT ANLAMLI KELİMELER BULMACASI



- 1) KÜÇÜK kelimesinin zıt anlamlısı 2) AZALMA kelimesinin zıt anlamlısı 3) GENÇ kelimesinin zıt anlamlısı 4) FAZLA kelimesinin zıt anlamlısı 5) CESUR kelimesinin zıt anlamlısı 6) BOŞ kelimesinin zıt anlamlısı 7) TATLI kelimesinin zıt anlamlısı 8) FAKİR kelimesinin zıt anlamlısı

MINİ TEKRAR ÇALIŞMASI 3

Aşağıdaki zıt anlamlı kelimeleri eşleştirin ve şifreyi bulun.

1 SERT	A SAHTE	6 İNCE	Ş FARKLI
2 DAR	N SICAK	7 AYNI	E KISA
3 HIZLI	K YUMUŞAK	8 UZUN	E KALIN
4 GERÇEK	S YAVAŞ	9 YARAMAZ	L USLU
5 SOĞUK	I GENİŞ	10 ÇOK	İ AZ

1	2	3	4	5	6	7	8	9	10
---	---	---	---	---	---	---	---	---	----

Aşağıdaki noktalı alanları doldurun.

Yılın 10. ayı	Haftanın 5. günü	Haftanın 7. günü	Yılın ilk ayı
.....

