

SIRA SİZDE

Aşağıdaki boşluğa kendi çalışmanı hazırlayabilirsin.

Kitapçık Hakkında

Bu kitapçıkta konu tekrarı amaçlı etkinlikler ve eğlenceli çalışmalar bulunmaktadır. Haftalık olarak çalışmalar üretilmeye ve paylaşılmaya devam edecektir.

Kontrol Edenin Adı İmzası

2. SINIF EĞLENCELİ ÇALIŞMALAR 5

18 Eğlenceli Çalışma
8 Problem



ilkokul1.com

Adı Soyadı:

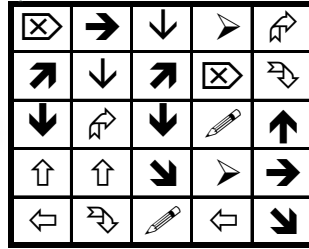



Sınıfı :

Okulu :

Yunus KÜLCÜ

EŞİ OLMAYANI BUL

Aşağıdaki her bir kutuda eş olmayan şekili bulun ve işaretleyin.



ÇARPMA İŞLEMİNE HAZIRLIK

Aşağıdaki soruları ritmik sayarak bulun ve cevaplarını işaretleyin.

Beşer ritmik sayarken 3.
söylediğimiz sayı kaçtır?

Üçer ritmik sayarken 10.
söylediğimiz sayı kaçtır?

Üçer ritmik sayarken 2.
söylediğimiz sayı kaçtır?

Dörder ritmik sayarken 6.
söylediğimiz sayı kaçtır?

Üçer ritmik sayarken 4.
söylediğimiz sayı kaçtır?

Dörder ritmik sayarken 4.
söylediğimiz sayı kaçtır?

Beşer ritmik sayarken 5.
söylediğimiz sayı kaçtır?

Üçer ritmik sayarken 7.
söylediğimiz sayı kaçtır?

İkişer ritmik sayarken 4.
söylediğimiz sayı kaçtır?

Üçer ritmik sayarken 9.
söylediğimiz sayı kaçtır?

15 25 30 24 8 21 16 27 10 12 6

PROBLEMLER



1) 7 birlik ve 1 onluktan oluşan sayının 9 fazlası kaçtır?

2) $21 + 22$ işleminin sonucunun 19 fazlası kaçtır?

3) Zeynep 60 sayfa olan kitabının önce 18 sayfasını, sonra da 21 sayfasını okudu. Okunmamış kaç sayfa kalmıştır?

4) Zümra 25 yaşındadır. Emir, Zümra'dan 9 yaş büyüktür. Buna göre Emir 8 yıl önce kaç yaşındaydı?

5) Aklımdan tuttuğum sayının 28 fazlası 77 ediyor. Aklımdan tuttuğum sayı kaçtır?

6) Kayra pazar günü 20 sayfa, pazartesi günü ise pazar gününden 3 sayfa daha az kitap okumuştur. Kayra iki günde toplam kaç sayfa kitap okumuştur?

7) Kerem kitabının önce 31 sayfasını, sonra da 27 sayfasını okudu. Geriye okunacak 14 sayfası kaldığına göre kitap toplam kaç sayfadır?

8) Nisanur 42 yaşındadır. Deniz, Nisanur'dan 19 yaş küçüktür. Bünyamin ise Deniz'den 14 yaş küçüktür. Buna göre bu üç arkadaşın yaşları toplamı kaçtır?

ZIT ANLAMLI KELİME BULMACASI

Aşağıdaki zıt anlamlı kelime çiftlerini boyayın. Hangi kelimenin boşta kalacağını bulun.

BEYAZ	GENÇ	SİYAH	İÇ	KOLAY
KAPALI	ÇOK	AÇIK	TATLI	ZOR
DIŞ	YAŞLI	BAYAT	AZ	TAZE

EŞ ANLAMLI KELİME BULMACASI

Aşağıdaki eş anlamlı kelime çiftlerini boyayın. Hangi kelimenin boşta kalacağını bulun.

GÜLÜNÇ	NEFES	SOLUK	BÜYÜK	BASİT
YALIN	SISKA	KİRLİ	KOMİK	CEVAP
KOCAMAN	OKUL	PİS	ZAYIF	MEKTEP

EĞLENCELİ MATEMATİK

Her katın toplamı apartman numarasını veriyor. Verilmeyen numaraları bulunuz.

10						8					
2		4	5		2	4		2	6		1
8		1	1	4	8	5		1		2	6
1		6	3		1	3	1		2	1	9

Verilen sayıdan başlayarak ok yönünde işlemleri yapın ve verilmeyen sayıları bulun.

	+4	15	-7		-2		+5		-4		+9	
+5						+8	+7					-6
							4					
-7						-3	-3					-4
	+7		+4		-9			+2		-2		-4

FARKLI OLANI BUL

Aşağıdaki her grupta kelime çiftlerinden anlam ilişkisi bakımından farklı olanı işaretleyin.



	KUTLAMA	TÖREN
	HASTA	SAĞLIKLI
	SURAT	YÜZ

	İLERİ	GERİ
	AFFETMEK	BAĞIŞLAMAK
	HEDİYE	ARMAĞAN

	VAZİFE	GÖREV
	ARTMA	AZALMA
	SERT	YUMUŞAK

	MESELA	ÖRNEĞİN
	KURU	ISLAK
	GÜÇ	KUVVET

	GÜLÜNÇ	KOMİK
	ÇUKUR	TÜMSEK
	BOLLUK	KITLIK

	KOLAY	BASİT
	SAVAŞ	BARİŞ
	ÖDÜL	CEZA

SUDOKU (KOLAY SEVİYE)

Sudoku 1

5	1	4		3
1	4	3		
2	3		1	
	5	2	3	1
		1		5

Sudoku 2

2		4	3	5
		2		1
1		5	2	3
4		1	5	2
5	2			4

Sudoku 3

1	5	2	3	
		1	5	
	2		1	5
	1	3	4	2
4	3	5		1

Sudoku 4

		4	1	5
2		1	4	3
	3			1
1		5	3	2
5		3	2	



ALFABEMİZ (ÖNCEKİ SONRAKİ HARF)

"←" işareti verilen harften önceki harfi, "⇒" işareti ise verilen harften sonraki harfi göstermektedir. Çalışmayı doğru şekilde tamamlayabilmen için harflerin sıralanışını iyi bilmen gerekir. Aşağıya alfabeği yazman işini oldukça kolaylaştıracaktır.

Verilen Yönerge Z←; U⇒; S←; F←; L←

Oluşan Gizli Kelime

Verilen Yönerge N←; B←; J⇒; J←; O←; F←

Oluşan Gizli Kelime

Verilen Yönerge T←; D⇒; G←; U←; B←; K⇒; I⇒

Oluşan Gizli Kelime

TOPLAMA ÇIKARMA VE VERİLMEYENLERİ BULMA ALIŞTIRMALARI

$$\begin{array}{r} 92 \\ - 12 \\ \hline \end{array}$$

$$\begin{array}{r} 96 \\ - 58 \\ \hline \end{array}$$

$$\begin{array}{r} \dots\dots \\ + 64 \\ \hline 83 \end{array}$$

$$\begin{array}{r} \dots\dots \\ - 18 \\ \hline 58 \end{array}$$

$$\begin{array}{r} 83 \\ + 11 \\ \hline \end{array}$$

$$\begin{array}{r} \dots\dots \\ + 34 \\ \hline 77 \end{array}$$

$$\begin{array}{r} \dots\dots \\ + 22 \\ \hline 62 \end{array}$$

$$\begin{array}{r} 19 \\ + 31 \\ \hline \end{array}$$

$$\begin{array}{r} \dots\dots \\ - 51 \\ \hline 2 \end{array}$$

$$\begin{array}{r} 24 \\ + 10 \\ \hline \end{array}$$

$$\begin{array}{r} \dots\dots \\ - 12 \\ \hline 37 \end{array}$$

$$\begin{array}{r} \dots\dots \\ + 50 \\ \hline \end{array}$$

$$\begin{array}{r} 56 \\ - 34 \\ \hline \end{array}$$

$$\begin{array}{r} 51 \\ - 10 \\ \hline \end{array}$$

$$\begin{array}{r} \dots\dots \\ + 13 \\ \hline 86 \end{array}$$

$$\begin{array}{r} \dots\dots \\ + 32 \\ \hline 99 \end{array}$$

$$\begin{array}{r} 22 \\ + 30 \\ \hline \end{array}$$

$$\begin{array}{r} \dots\dots \\ + 44 \\ \hline \end{array}$$

41 - 43 - 52 - 49 - 53 - 94 - 22 - 73 - 50 - 76 - 83 - 38 - 80 - 40 -
19 - 82 - 24 - 34 - 67

ŞEKİLLİ SUDOKULAR (Seviye 2)

Çember, üçgen, kare ve dikdörtgen şekillerini; her satır, sütun ve koyu renkli alanlara, benzerleri olmayacak şekilde yerleştiriniz.

	□		△
△	○	□	□
□	□		
○		□	

İŞLEM LİSTELERİ

İşlem listelerine, cevaplarına uygun işlemleri yerleştiriniz.

$25 - 12$

$9 + 6$

$12 + 3$

$19 - 6$

$7 + 4$

$14 - 3$

$1 + 9$

$22 - 11$

$2 + 8$

$25 - 15$

$6 + 7$

$16 - 1$

11

15

10

13

11

15

10

13

DESTE, DÜZİNE, ONLUK VE BİRLİK SORULARI

Aşağıdaki problemleri çözün ve cevaplarını işaretleyin.

5 birlik ve 5 onluktan oluşan sayı kaçtır?

1 düzinenin 7 fazlası kaç eder?

2 deste ve 2 düzine kaç eder?

7 destenin 7 fazlası kaç eder?

26 sayısı 2 düzineden kaç fazladır.

4 sayısına kaç eklersek 1 düzine olur?

7

2

8

19

55

44

77

DİKKAT PROBLEMLERİ (Gereksiz Bilgiler)

1) 13 vagonlu bir trenin 9. vagonunda 19 yolcu, 13. vagonunda ise 14 yolcu bulunmaktadır. Bu iki vagonunda toplam kaç yolcu vardır?

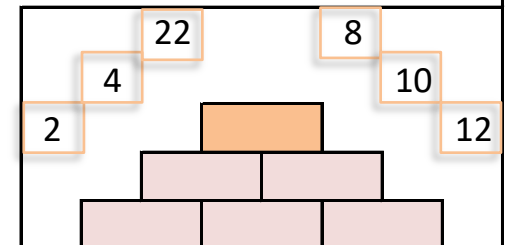
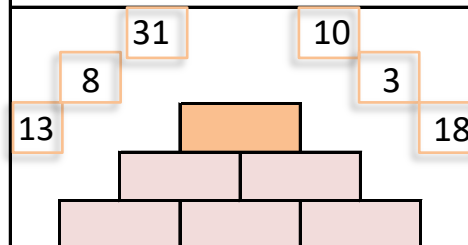
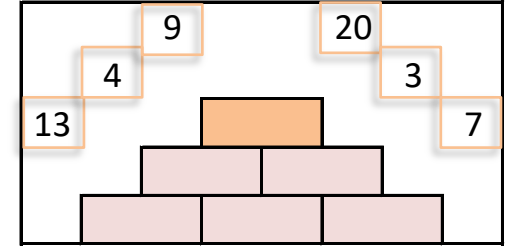
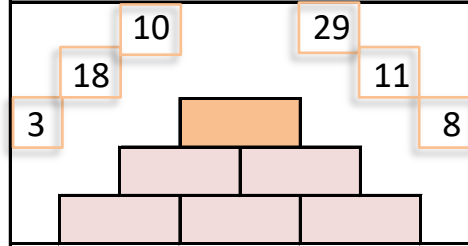
2) Muhammed'in 36 lirası vardı. Muhammed 5 günde 15 lira daha biriktirmiştir. Muhammed'in kaç lirası olmuştur?

3) Meyra 7 günde 15 lira biriktirmiştir. Ablası Meyra'ya 50 lira harçlık verirse Meyra'nın kaç lirası olur?

4) Eymen 23, Ömer 13 ve Şükriye 31 yaşındadır. Ömer ve Eymen'in yaşları farkı kaçtır?

SAYILARI YERLEŞTİR (TOPLAMA PİRAMİDİ)

Toplama piramidi üzerindeki sayılar yerlerinden çıkmış. Sayıları yerlerine yazabilir misiniz?





EŞİTLİK - 2

Eşitliklerde verilmeyen sayıları bulunuz.



$$9 - 1 = \dots + 7$$

$$1 + \dots = 19 - 8$$

$$19 - 2 = \dots + 13$$

$$12 + \dots = 8 + 8$$

$$1 + \dots = 2 + 5$$

$$6 + 8 = 16 - \dots$$

$$19 - 18 = \dots - 3$$

$$11 + 7 = 9 + \dots$$

$$11 + \dots = 6 + 18$$

$$15 - 2 = \dots + 2$$

SAYI BULMACASI

İki Basamaklılar:

93, 91, 29, 26,

Üç Basamaklılar:

341,

Dört Basamaklılar:

8839, 9898,

Beş Basamaklılar:

18121, 14523, 63621,

Altı Basamaklılar:

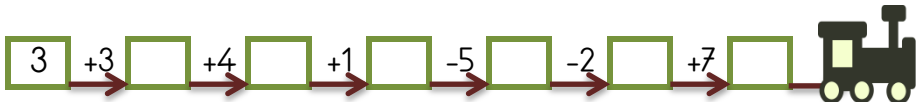
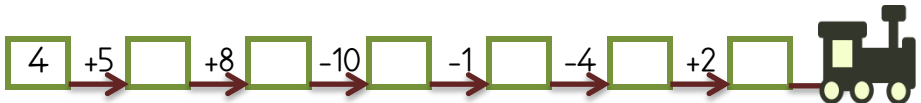
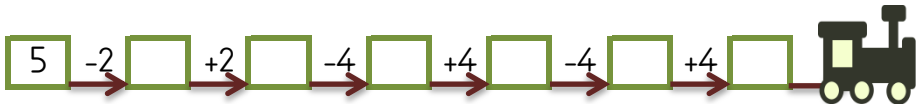
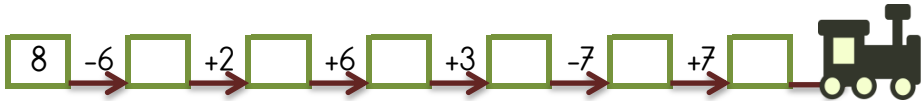
964422, 569161, 188495,

889566, 138249,

			1			
			3			
			8			
			2			
			4			
			9			

VAGONLARI DOLDUR

Son vagonda verilen sayıdan başlayarak verilen işlemleri yaparak bütün vagonları doldurabilir misin?



HATASIZ YAZIYORUM

Yazım ve noktalama hatalarını bulun ve işaretleyin. Daha sonra yazıyı hatasız bir şekilde sağ tarafa yazın. (4 hata)

birkaç hafta sonra,
düşmanlar kat kat
büyük bir ordu ile
saldırmış? Kırıl son bir
ümitle eli silah tutan
bütün gençleri askere
çağırılmış

.....

.....

.....

.....

.....

.....

.....