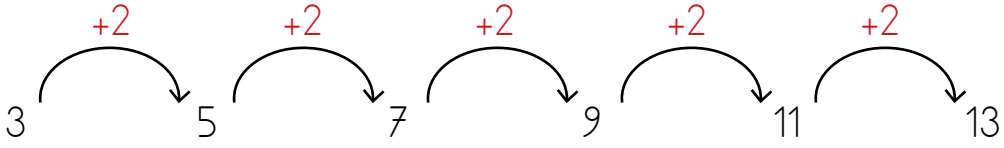




Belirli bir kurala göre dizilen sayılardan oluşan dizilime **sayı örüntüsü** denir.



Örüntünün Kuralı: Sayılar her adımda 2 artıyor.

1. Aşağıdaki örüntüleri inceleyelim. Örüntünün kuralını belirleyip yazalım.

ÖRÜNTÜLER

ÖRÜNTÜNÜN KURALI

4 5 6 7 8 9

Kural

.....

20 25 30 35 40 45

Kural

.....

8 10 12 14 16 18

Kural

.....

48 52 56 60 64 68

Kural

.....

12 15 18 21 24 27

Kural

.....

3 13 23 33 43 53

Kural

.....

1 4 7 10 13 16

Kural

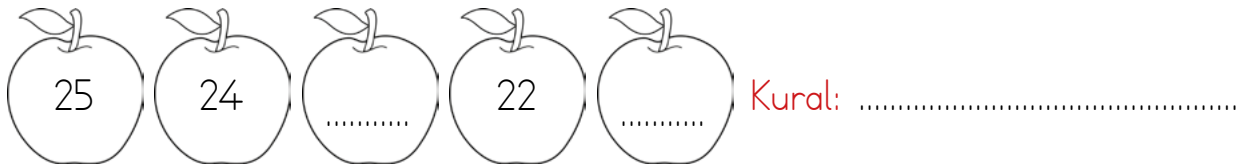



.....

7 11 15 19 23 27

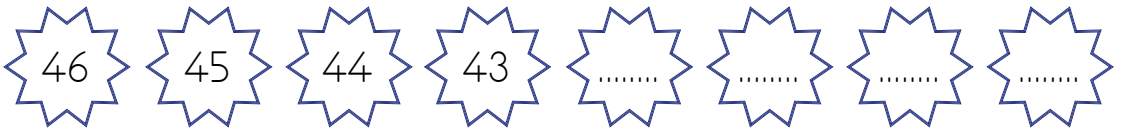
Kural

.....

1. Aşağıda verilen örüntüleri inceleyelim. Örüntünün kuralını belirleyip örüntüde verilmeyen sayıları yazalım. Daha sonra elmalar boyayalım.



2. Aşağıda verilen örüntüleri dörder adım ilerletelim.



1. Aşağıdaki sayılardan başlayarak verilen kurallarla ilgili örüntüler oluşturalım. Boş bırakılan kutuları dolduralım

A. $+4$ 5 9

B. $+2$ 13

C. $+3$ 4

D. $+10$ 5

E. $+1$ 72

2. Aşağıdaki sayılardan başlayarak verilen kurallarla ilgili örüntüler oluşturalım. Boş bırakılan kutuları dolduralım

A. -1 19 18

B. -5 80

C. -2 25

D. -10 90

E. -3 27

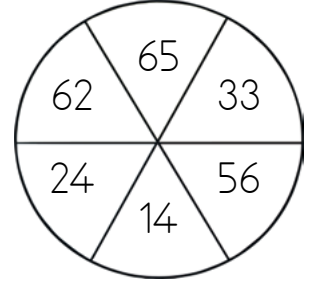
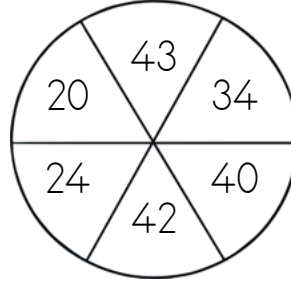
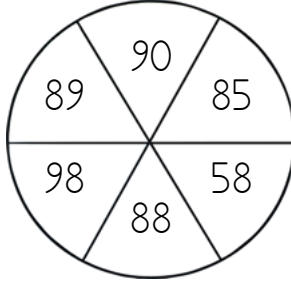
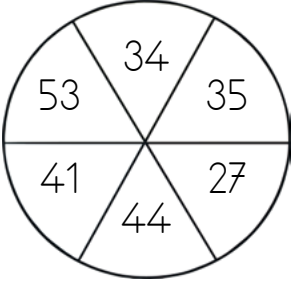
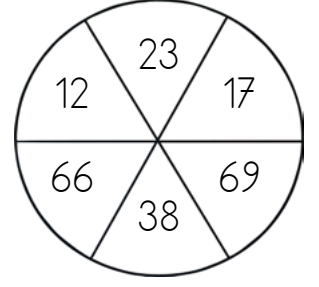
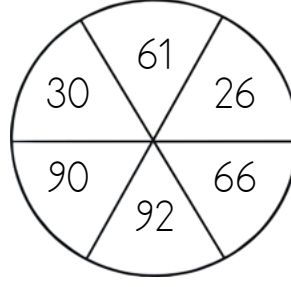
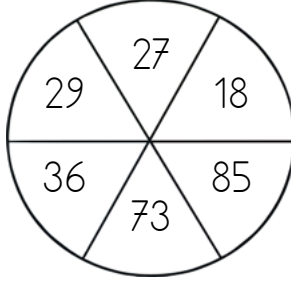
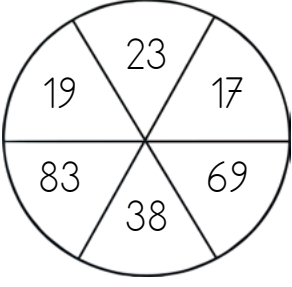


2 basamaklı doğal sayılarda onluk sayısı fazla olan daha büyüktür. Onluk sayıları eşit olan 2 basamaklı sayılarda birlik sayısı fazla olan daha büyüktür.

1. Aşağıdaki noktalı yerlere "büyüktür" ve "küçüktür" ifadelerinden uygun olanı yazalım.

| | |
|-----------------|-----------------|
| 75 36'dan | 80 88'den |
| 50 51'den | 62 46'dan |
| 17 9'dan | 35 45'ten |
| 52 74'ten | 31 13'ten |
| 19 17'den | 75 78'den |
| 58 91'den | 19 17'den |
| 42 32'den | 21 18'den |
| 23 12'den | 14 21'den |
| 87 78'den | 51 12'den |
| 54 21'den | 99 19'dan |
| 77 91'den | 85 79'dan |
| 40 27'den | 41 24'ten |
| 53 50'den | 55 33'den |
| 15 18'den | 27 77'den |
| 32 23'ten | 10 19'dan |

1. Aşağıdaki tablolarda verilen sayılardan en büyük olanın olduğu bölümü sarıya, en küçük olanın olduğu bölümü maviye boyayalım.



2. Aşağıda belirtilen sayılardan 4 tanesini uygun alanlara yazalım.

⇒ 17'den büyük 36'dan küçük sayılar :

⇒ 45'ten küçük 18'den büyük sayılar :

⇒ 53'den küçük 24'ten büyük sayılar :

⇒ 62'den büyük 69'dan küçük sayılar :

⇒ 71'den küçük 50'den büyük sayılar :

⇒ 33'ten büyük 43'ten küçük sayılar :

⇒ 90'dan küçük 81'den büyük sayılar :

1. Aşağıdaki doğal sayıları örnekteki gibi büyükten küçüğe doğru sıralayalım.

23 19 16 22



□ □ □ □

17 26 15 14



□ □ □ □



52 25 27 57



□ □ □ □

59 65 46 56



□ □ □ □

1. Aşağıdaki doğal sayıları örnekteki gibi büyükten küçüğe doğru sıralayalım.

61 23 52 88



□ □ □ □

41 33 79 72



□ □ □ □



22 86 41 54



□ □ □ □

23 50 29 92



□ □ □ □

1. Aşağıdaki sayıları büyükten küçüğe doğru sıralayalım.

| | | | | | | | | | | |
|----|----|----|----|----|---|--|--|--|--|--|
| 16 | 35 | 22 | 57 | 36 | » | | | | | |
| 92 | 75 | 57 | 88 | 90 | » | | | | | |
| 23 | 25 | 17 | 63 | 35 | » | | | | | |
| 45 | 52 | 50 | 66 | 63 | » | | | | | |
| 38 | 20 | 25 | 36 | 33 | » | | | | | |
| 25 | 14 | 32 | 50 | 47 | » | | | | | |

2. Aşağıdaki sayıları küçükten büyüğe doğru sıralayalım.

| | | | | | | | | | | |
|----|----|----|----|----|---|--|--|--|--|--|
| 23 | 35 | 21 | 18 | 42 | » | | | | | |
| 85 | 74 | 70 | 76 | 92 | » | | | | | |
| 73 | 27 | 70 | 55 | 43 | » | | | | | |
| 52 | 22 | 30 | 41 | 62 | » | | | | | |
| 24 | 14 | 19 | 28 | 30 | » | | | | | |
| 37 | 72 | 50 | 43 | 20 | » | | | | | |

1. Aşağıdaki sayıları inceleyiniz. Verilen sayılardan ilk sıradaki büyükse

😊, küçükse ☹️ ifadesini örnekteki gibi yapınız.

| | | | |
|---------|---------|---------|---------|
| 63 😊 39 | 25 ○ 59 | 44 ○ 38 | 92 ○ 96 |
| 18 ○ 82 | 45 ○ 32 | 23 ○ 17 | 84 ○ 48 |
| 53 ○ 54 | 17 ○ 19 | 28 ○ 88 | 16 ○ 9 |
| 30 ○ 19 | 4 ○ 24 | 79 ○ 97 | 10 ○ 26 |
| 41 ○ 33 | 52 ○ 50 | 14 ○ 15 | 46 ○ 65 |

2. Aşağıdaki ifadelerle göre uygun bulutları boyayınız.

1 38'den büyük olan sayıların bulunduğu bulutları boyayınız.

| | | | | | |
|----|----|----|----|----|----|
| 37 | 40 | 29 | 55 | 18 | 23 |
|----|----|----|----|----|----|

2 53'den küçük olan sayıların bulunduğu bulutları boyayınız.

| | | | | | |
|----|----|----|----|----|----|
| 60 | 14 | 58 | 62 | 52 | 54 |
|----|----|----|----|----|----|

3 86'dan büyük olan sayıların bulunduğu bulutları boyayınız.

| | | | | | |
|----|----|----|----|----|----|
| 87 | 85 | 68 | 88 | 29 | 96 |
|----|----|----|----|----|----|

4 15'den küçük olan sayıların bulunduğu bulutları boyayınız.

| | | | | | |
|----|----|----|---|----|----|
| 14 | 18 | 25 | 8 | 13 | 26 |
|----|----|----|---|----|----|