


# 4. SINIFLAR SENE BAŞI HAZIR BULUNUŞLUK SINAVI

PUAN



Adı - Soyadı: ..... Sınıfı: 4/.... Ders: Matematik

**1** Aşağıdaki sayıların okunuşlarını yazınız.

a. 192 : .....

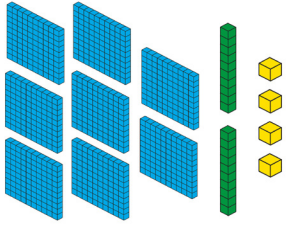
b. 796 : .....

**2** Aşağıda okunuşları verilen doğal sayıları rakamla yazınız.

a. Beş yüz doksan yedi : .....

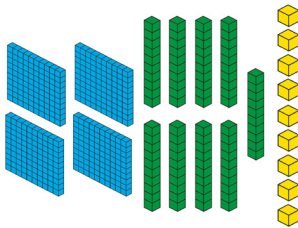
b. Yedi yüz yirmi yedi : .....

**3** Aşağıda modellenen doğal sayıları bulup okunuşlarını yazınız.



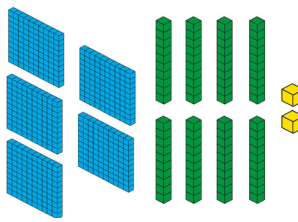
Rakamla: \_\_\_\_\_

Yazıyla: \_\_\_\_\_



Rakamla: \_\_\_\_\_

Yazıyla: \_\_\_\_\_



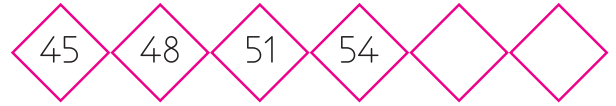
Rakamla: \_\_\_\_\_

Yazıyla: \_\_\_\_\_

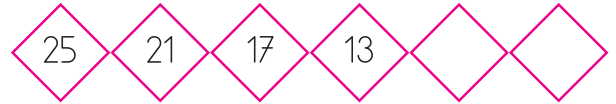
**5** Aşağıdaki sayıları en yakın onluğa ve yüzlüğe yuvarlayıp yazınız.

Sayı	En Yakın Onluk	En Yakın Yüzlük
796		
299		
401		
476		
855		

**6** Aşağıdaki örüntülerin kuralını bulup eksik adımlarını tamamayınız. Örüntünün kuralını altına yazınız.



Örüntünün Kuralı:.....



Örüntünün Kuralı:.....



Örüntünün Kuralı:.....



Örüntünün Kuralı:.....

7 Aşağıdaki toplama ve çıkarma işlemlerini yapınız.

$$\begin{array}{r} 801 \\ + 45 \\ \hline \end{array}$$

$$\begin{array}{r} 952 \\ - 136 \\ \hline \end{array}$$

$$\begin{array}{r} 399 \\ + 102 \\ \hline \end{array}$$

$$\begin{array}{r} 503 \\ - 88 \\ \hline \end{array}$$

$$\begin{array}{r} 199 \\ + 93 \\ \hline \end{array}$$

$$\begin{array}{r} 603 \\ - 104 \\ \hline \end{array}$$

$$\begin{array}{r} 109 \\ + 699 \\ \hline \end{array}$$

$$\begin{array}{r} 923 \\ - 15 \\ \hline \end{array}$$

$$\begin{array}{r} 503 \\ + 137 \\ \hline \end{array}$$

$$\begin{array}{r} 455 \\ - 176 \\ \hline \end{array}$$

$$\begin{array}{r} 501 \\ + 299 \\ \hline \end{array}$$

$$\begin{array}{r} 705 \\ - 123 \\ \hline \end{array}$$

8 Aşağıdaki problemleri çözünüz.


Bir satıcı pazara götürdüğü 900 tane yumurtanın önce 366 tanesini, sonra da 192 tanesini sattı. Geriye kaç yumurta kaldı?

**ÇÖZÜM:**


Hasan'ın 92, Ferhat'ın 118 bilyesi vardır. Rıza'nın ise ikisinin toplam bilyesi kadar bilyesi vardır. Buna göre üç arkadaşın toplam kaç bilyesi vardır?

**ÇÖZÜM:**


9 Aşağıdaki grafiği inceleyip soruları yanıtlayınız.



Dün akşam ailecek yediğimiz meyvelerin miktarı yukarıdaki nesne grafiğinde gösterilmiştir.

A) En fazla hangi meyveden yenmiştir?

---

B) En az hangi meyveden yenmiştir?

---

C) Elmalar, armutlara göre kaç tane az yenilmiştir?

---

D) Toplam kaç meyve tüketilmiştir?

---

E) Toplam kaç tane elma ve portakal tüketilmiştir?

---

10 Aşağıdaki çarpma işlemlerini yapınız.

$$\begin{array}{r} 178 \\ \times 3 \\ \hline \end{array}$$
$$\begin{array}{r} 199 \\ \times 2 \\ \hline \end{array}$$
$$\begin{array}{r} 76 \\ \times 6 \\ \hline \end{array}$$
$$\begin{array}{r} 35 \\ \times 7 \\ \hline \end{array}$$
$$\begin{array}{r} 45 \\ \times 9 \\ \hline \end{array}$$

11 Aşağıdaki problemleri çözünüz.

Bir fırında her gün öğleden önce 53, öğleden sonra 35 ekmek satılıyor. Bu fırında haftada kaç ekmek satılır?

**ÇÖZÜM:**

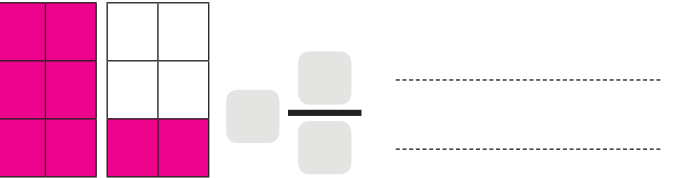
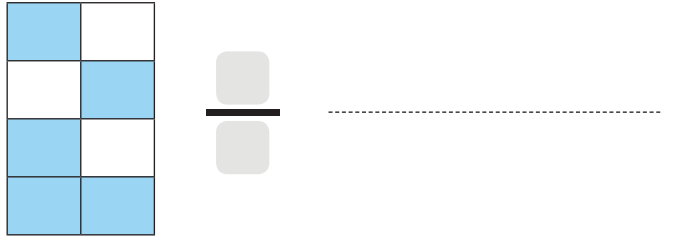

Bir hayvanat bahçesinde 14 leylek ve 8 kaplan vardır. Bu hayvanların ayak sayıları toplamı kaçtır?

**ÇÖZÜM:**


12 Aşağıdaki bölme işlemlerini yapınız.

$$52 \overline{) 4}$$
$$82 \overline{) 3}$$
$$91 \overline{) 4}$$
$$24 \overline{) 6}$$
$$28 \overline{) 2}$$

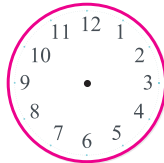
13 Aşağıdaki şekillerin boyalı kısımlarına karşılık gelen kesirleri ve okunuşlarını yazınız.



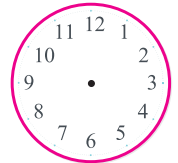
14 Aşağıdaki saatlerin kaçı gösterdiklerini altlarına yazınız.



15 Aşağıda verilen saatlere göre akrep ve yelkovanlarını çiziniz.




17:10



01:30

## 4. SINIFLAR SENE BAŐI HAZIR BULLUNUŐLUK SINAVI

PUAN



Adı - Soyadı: ..... Sınıfı: 4/.... Ders: Türkçe

Pamuk çok sevimli bir kedi. Ona bu ismi tüylerinin beyaz bir pamuk gibi olmasından dolayı ben koydum. Onu bana babam Van'dan getirmişti. Bu kedilerin bir gözü mavi, diğer gözü ise sarı ya da çağla yeşili renkte olabiliyor. Pamuk'un bir gözü mavi bir gözü ise çağla yeşili. Uzun ve kabarık bir kuyruğu var. Diğer kedilerden farklı olarak Van kedisi kendi isteğiyle suda yüzmeji ve suyla oynamayı seven tek kedi türü olarak bilinmektedir.

1-5. soruları metne göre yanıtlayınız.

1 Kedinin adı neden Pamuk konulmuş?

.....  
.....

2 Pamuk'u çocuğa kim getirmiş?

.....  
.....

3 Bu kedinin cinsi nedir?

.....  
.....

4 Pamuk'un gözleri ne renktir?

.....  
.....

5 Van Kedisini diğer kedilerden ayıran özelliği nedir?

.....  
.....

6 Soruları aşağıdaki dörtlüğe göre yanıtlayınız.

Bak kurt gibi kalın yapılı,  
Görmüş geçirmiş ağaçlara,  
Küçük zerdali ağacım,  
Pişman olursun sonra.

A) Şiirde toplam kaç hece vardır?

.....

B) Şiirde toplam kaç sözcük vardır?

.....

C) Şiirde iki heceli kaç sözcük vardır?

.....

D) Şiirde üç heceli kaç sözcük vardır?

.....

E) Altı çizili sözcüğün zıt anlamlısını yazınız?

.....

7 Aşağıdaki sözcükler sözlük sırasına göre dizildiyse başındaki kutucuğa ✓, dizilmediyse ✗ işareti koyunuz.

abaküs - ağaç - araba - ayı

halı - hediye - hikâye - hakem

terlik - tesbih - tulum - Türkçe

zarf - zaman - zebra - zil

uçak - ud - uğur - uzun

Aşağıdaki test sorularını yanıtlayınız.

8 "Hızlı" sözcüğünün eş ve zıt anlamlısı hangi cümlede bir arada verilmiştir?

- A) Tavşan, kaplumbağadan daha hızlı bir hayvandır.
- B) Gemi ağır yüküyle hız yapamadı.
- C) Şişman olmasına rağmen hızlı yürüyordu.
- D) Araba süratli giderken, ışıklarda yavaşlardı.

9 Aşağıdaki cümlelerde büyük harflerin kullanımıyla ilgili bir yazım yanlışı yapılmıştır?

- A) Türk Hava Yolları uçağı ile gitti.
- B) Günümüzde teknoloji dili İngilizce'dir.
- C) Uzaya yolculukta sıra Mars gezegenindedir.
- D) Türkiye cumhuriyeti demokratik bir ülkedir.

10 "Hakan, tedavi olmak için amcasının yanına Çanakkale'ye gitti."

Yukarıda verilen cümlede aşağıdaki sorulardan hangisinin cevabı yoktur?

- A) Nereye? B) Kim?
- C) Ne zaman? D) Niçin?

11 Aşağıdaki tümcelerin hangisinde "yol" sözcüğü diğerlerinden farklı anlamda kullanılmıştır?

- A) Bu yol Ankara'ya gider.
- B) Tavuğun tüyleri yolundu.
- C) Arkadaşımın evine arka yoldan gidilir.
- D) Bu yolun sonundan sağa dönmelisin.

12 Aşağıdaki cümlelerin hangisinde karşılaştırma vardır?

- A) Yalancının mumu yatsıya kadar yanar.
- B) Bu sorular önceki sınav sorularından daha kolaydı.
- C) Yaşlı insanların çalışması zordur.
- D) Dişlerini fırçalamadığın için çürüklerin var.

soru

yanıt


cevap

13 Yukarıdaki sözcüklerin arasındaki anlam ilişkisi aşağıdakilerin hangisinde de vardır?

- A) yaşlı - genç - ihtiyar
- B) kırmızı - al - beyaz
- C) İleri - geri - hızlı
- D) kalın - ince - hafif

# 4. SINIFLAR SENE BAŞI HAZIR BULUNUŞLUK SINAVI

PUAN



Adı - Soyadı: ..... Sınıfı: 4/.... Ders: Matematik

**1** Aşağıdaki sayıların okunuşlarını yazınız.

a. 192 : ..... **2** .....

b. 796 : ..... **2** .....

**2** Aşağıda okunuşları verilen doğal sayıları rakamla yazınız.

a. Beş yüz dokuz ..... **2** .....

b. Yedi yüz yirmi ..... **2** .....

**3** Aşağıda modellenen doğal sayıları bulup okunuşlarını yazınız.

Rakamla: \_\_\_\_\_  
Yazıyla: \_\_\_\_\_

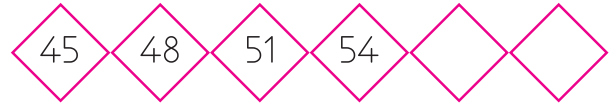
Rakamla: \_\_\_\_\_ **6** .....  
Yazıyla: \_\_\_\_\_

Rakamla: \_\_\_\_\_  
Yazıyla: \_\_\_\_\_

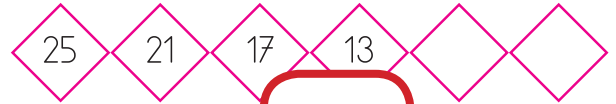
**5** Aşağıdaki sayıları en yakın onluğa ve yüzlüğe yuvarlayıp yazınız.

Sayı	En Yakın Onluk	En Yakın Yüzlük
796		
299	<b>10</b>	
401		
476		
855		

**6** Aşağıdaki örüntülerin kuralını bulup eksik adımlarını tamamlayınız. Örüntünün kuralını altına yazınız.



Örüntünün Kuralı:.....



Örüntünün Kuralı:..... **8** .....



Örüntünün Kuralı:.....



Örüntünün Kuralı:.....



10 Aşağıdaki çarpma işlemlerini yapınız.

$$\begin{array}{r} 178 \\ \times 3 \\ \hline \end{array}$$
$$\begin{array}{r} 199 \\ \times 2 \\ \hline \end{array}$$
$$\begin{array}{r} 76 \\ \times 6 \\ \hline \end{array}$$
$$\begin{array}{r} 35 \\ \times 7 \\ \hline \end{array}$$
$$\begin{array}{r} 45 \\ \times 9 \\ \hline \end{array}$$

10

11 Aşağıdaki problemleri çözünüz.

Bir fırında her gün öğleden önce 53, öğleden sonra 35 ekmek satılıyor. Bu fırında haftada kaç ekmek satılır?

ÇÖZÜM:


5

Bir hayvanat bahçesinde 14 leylek ve 8 kaplan vardır. Bu hayvanların ayak sayıları toplamı kaçtır?

ÇÖZÜM:

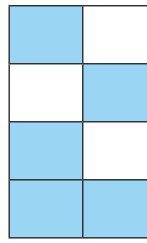

5

12 Aşağıdaki bölme işlemlerini yapınız.

$$52 \overline{) 4}$$
$$82 \overline{) 3}$$
$$91 \overline{) 4}$$
$$24 \overline{) 6}$$
$$28 \overline{) 2}$$

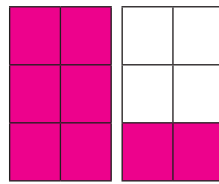
10

13 Aşağıdaki şekillerin boyalı kısımlarına karşılık gelen kesirleri ve okunuşlarını yazınız.



$$\frac{\quad}{\quad} = \dots$$

2



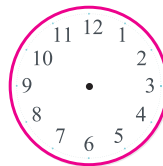
$$\frac{\quad}{\quad} = \dots$$

14 Aşağıdaki saatlerin kaç gösterdiklerini altlarına yazınız.

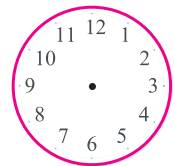


8

15 Aşağıda verilenlere göre akrep ve yelkovanlarını çiziniz.



17:10




01:30



## 4. SINIFLAR SENE BAŞI HAZIR BULUNUŞLUK SINAVI

PUAN



Adı - Soyadı: ..... Sınıfı: 4/.... Ders: Türkçe

Pamuk çok sevimli bir kedi. Ona bu ismi tüylerinin beyaz bir pamuk gibi olmasından dolayı ben koydum. Onu bana babam Van'dan getirmişti. Bu kedilerin bir gözü mavi, diğer gözü ise sarı ya da çağla yeşili renkte olabiliyor. Pamuk'un bir gözü mavi bir gözü ise çağla yeşili. Uzun ve kabarık bir kuyruğu var. Diğer kedilerden farklı olarak Van kedisi kendi isteğiyle suda yüzmeji ve suyla oynamayı seven tek kedi türü olarak bilinmektedir.

1-5. soruları metne göre yanıtlayınız.

1 Kedinin adı neden Pamuk konulmuş?

10

2 Pamuk'u çocuğa kim getirmiş?

10

3 Bu kedinin cinsi nedir?

10

4 Pamuk'un gözleri ne renktir?

10

5 Van Kedisini diğer kedilerden ayıran özelliği nedir?

10

6 Soruları aşağıdaki dörtlüğe göre yanıtlayınız.

Bak kurt gibi kalın yapılı,  
Görmüş geçirmiş ağaçlara,  
Küçük zerdali ağacım,  
Pişman olursun sonra.

A) Şiirde toplam kaç hece vardır?

B) Şiirde toplam kaç sözcük vardır?

C) Şiirde iki heceli kaç sözcük vardır?

10

D) Şiirde üç heceli kaç sözcük vardır?

E) Altı çizili sözcüğün zıt anlamlısını yazınız?

7 Aşağıdaki sözcükler sözlük sırasına göre dizildiyse başındaki kutucuğa ✓, dizilmediyse ✗ işareti koyunuz.

abaküs - ağaç - araba - ayı

halı - hepten - hikâye - hakem

terlik - 10 - ulum - Türkçe

zarf - zaman - zebra - zil

uçak - ud - uğur - uzun

Aşağıdaki test sorularını yanıtlayınız.

8 "Hızlı" Sözcüğünün eş ve zıt anlamlısı hangi cümlede bir arada verilmiştir?

- A) Tavşan, kaplumbağadan daha hızlı bir hayvandır.  
B) Gemi ağır yük taşıyamadı.  
C) Şişman olan adam daha hızlı yürüyordu.  
D) Araba süratli giderken, ışıklarda yavaşlardı.

5

9 Aşağıdaki cümlelerde büyük harflerin kullanımıyla ilgili bir yazım yanlışı yapılmıştır?

- A) Türk Hava Yolları uçağı ile gitti.  
B) Günümüzde kullanılan dil İngilizce 'dir.  
C) Uzaya yolculuğunda Mars gezegenindedir.  
D) Türkiye cumhuriyeti demokratik bir ülkedir.

5

10 "Hakan, tedavi olmak için amcasının yanına Çanakkale'ye gitti."

Yukarıda verilen cümlede aşağıdaki sorulardan hangisi yer almamıştır?

- A) Nereye  
B) Kim  
C) Ne zaman  
D) Niçin

5

11 Aşağıdaki tümcelerin hangisinde "yol" sözcüğü diğerlerinden farklı anlamda kullanılmıştır?

- A) Bu yol Ankara'dan İstanbul'a uzanır.  
B) Tavuğun tüyleri beyazdı.  
C) Arkadaşımın evine arka yoldan gidilir.  
D) Bu yolun sonundan sağa dönmelisin.

5

12 Aşağıdaki cümlelerin hangisinde karşılaştırma vardır?

- A) Yalancının mumu yatsıya kadar yanar.  
B) Bu sorular temel kavram sorularından daha kolaydı.  
C) Yaşlı insanların çalışması zordur.  
D) Dişlerini fırçalamadığın için çürüklerin var.

5

soru

yanıt

cevap

13 Yukarıdaki sözcüklerin arasındaki anlam ilişkisi aşağıdakilerin hangisinde de vardır?

- A) yaşlı - genç - ileri  
B) kırmızı - al - beyaz  
C) ileri - geri - hızlı  
D) kalın - ince - hafif

5