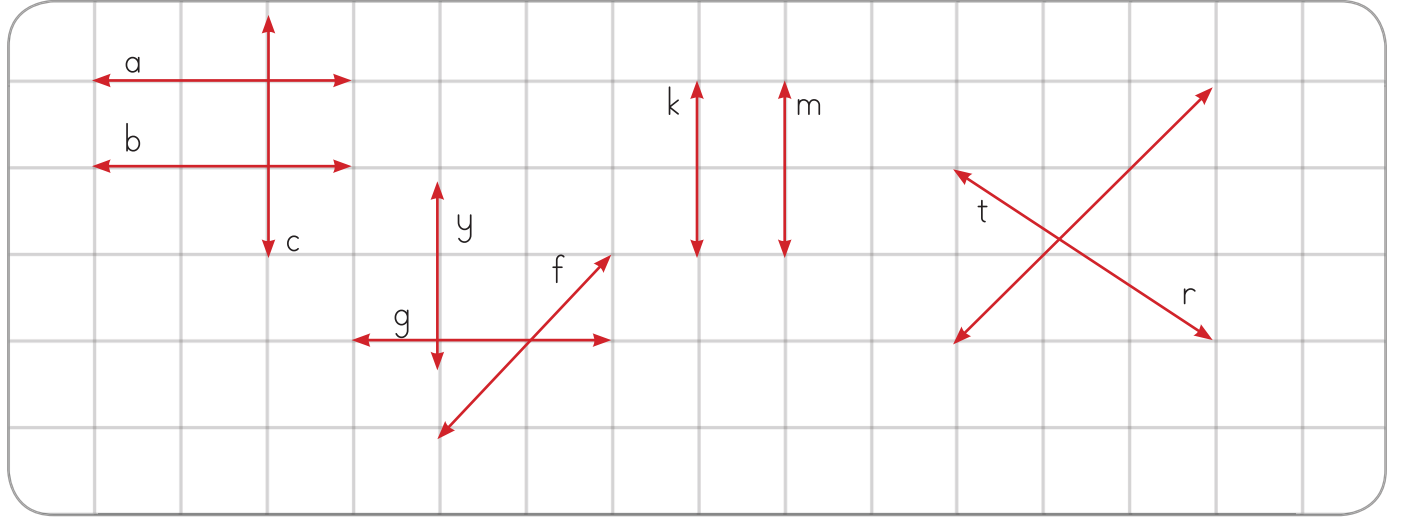
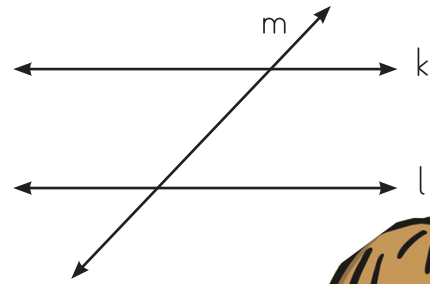
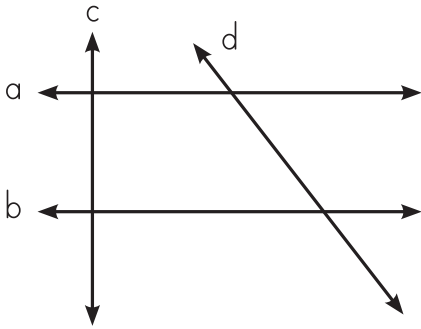


● Aşağıdaki doğruların birbirlerine göre durumlarını inceleyip soruları yanıtlayınız.



1. a doğrusu b doğrusuna göre doğrudur.
2. a doğrusu c doğrusuna göre doğrudur.
3. c doğrusu b doğrusuna göre doğrudur.
4. k doğrusu m doğrusuna göre doğrudur.
5. g doğrusu f doğrusuna göre doğrudur.
6. t doğrusu r doğrusuna göre doğrudur.
7. g doğrusu y doğrusuna göre doğrudur.

● Aşağıdaki ifadelerden doğru olanlarının başına "D", yanlış olanların başına "Y" yazınız.



- (.....) a doğrusu ve b doğrusu paralel doğrulardır.
(.....) a doğrusu ve d doğrusu kesişen doğrulardır.
(.....) m doğrusu ve k doğrusu dik kesişen doğrulardır.
(.....) l doğrusu ve m doğrusu paralel doğrulardır.
(.....) l doğrusu ve k doğrusu paralel doğrulardır.
(.....) a doğrusu ve c doğrusu dik kesişen doğrulardır.
(.....) b doğrusu ve d doğrusu paralel doğrulardır.

