


- Aşağıdaki örüntülerin kuralını örnekteki gibi bulunuz. Kurala göre iki adım daha genişletiniz.


Örüntü	Örüntünün Kuralı	Sonraki 2 Adım
$\begin{array}{ccccccc} & +2 & & +2 & & +2 & & +2 \\ & \frown & & \frown & & \frown & & \frown \\ 2 & - & 4 & - & 6 & - & 8 & - & 10 \end{array}$	Sayılar ikişer ikişer artıyor.	12 - 14
$2 - 8 - 14 - 20 - 26$		
$7 - 16 - 25 - 34 - 43$		
$18 - 16 - 14 - 12 - 10$		
$5 - 8 - 7 - 10 - 9$		
$10 - 11 - 13 - 16 - 20$		
$5 - 10 - 8 - 13 - 11$		
$90 - 85 - 70 - 65 - 60$		

- Verilen sayıdan başlayarak belirtilen kurala göre örüntüler oluşturunuz.

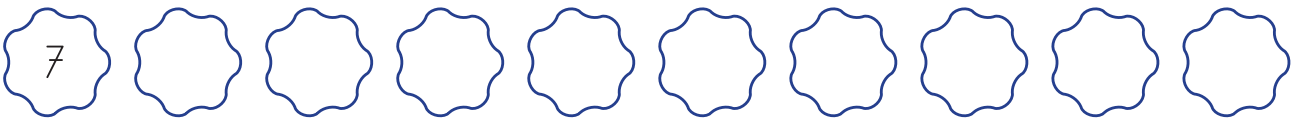
⇒⇒⇒ Sayılar 3'er 3'er artıyor.



⇒⇒⇒ Sayılar 8 artıyor, 2 azalıyor.



⇒⇒⇒ Sayılar 3 azalıyor, 5 artıyor.



⇒⇒⇒ Sayılar 3 artıyor, 1 azalıyor.

