


3. SINIF GENEL DEĞERLENDİRME SINAVI

- 1 -

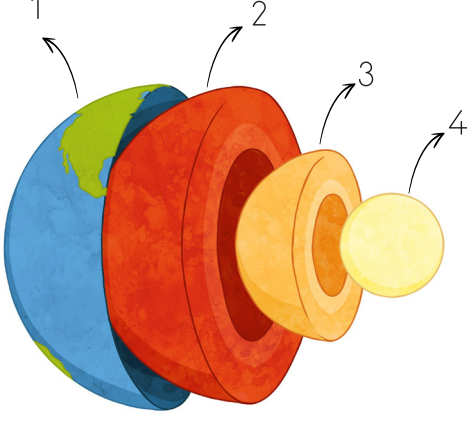
ADI-SOYADI:.....



PUAN

FEN BİLİMLERİ

1.



Yukarıdaki numaralı alanların isimlerini aşağıya yazınız.

- 1-
- 2-
- 3-
- 4-

2. Aşağıdaki ifadelerin başına doğru ise (D), yanlış ise (Y) yazınız.

- (.....) Dünyanın katmanlarından en sıcak olanı mantodur.
- (.....) Yer kabuğu yerine taş küre diyebiliriz.
- (.....) İnsanların üzerinde yaşadığı katmanın adı dış çekirdektir.
- (.....) Yer kabuğunun hemen altında bulunan ve sıcaklık nedeniyle erimiş kayalardan oluşan katman iç çekirdektir.
- (.....) Okyanuslar, buzullar, göller ve denizler kara katmanında yer alır.
- (.....) Su kürenin diğer adı atmosferdir.

3. Dünya modeli üzerinde yeşil rengin mavi renge göre daha az olduğunu gören bir kişi aşağıdaki sonuçlardan hangisine ulaşılır?



- a. Dünya'nın şekli küreye benzer.
- b. Dünya'da suların kapladığı alan karalara göre daha fazladır.
- c. Dünya sadece karalardan oluşur.

4.



Yukarıdaki resimde gösterilen kısımların isimleri hangi seçenekte doğru verilmiştir?

	1	2	3
a.	Hava Katmanı	Su Katmanı	Kara Katmanı
b.	Su Katmanı	Hava Katmanı	Kara Katmanı
c.	Hava Katmanı	Kara Katmanı	Su Katmanı

5. Deniz ve okyanusların tabanı Dünya'mızın hangi katmanına aittir?

- a. Su
- b. Kara
- c. Hava

6. Yandaki görselde duyu organları numaralandırılmıştır. Bu numaraları, görevleri verilen duyu organlarının yanlarına yazınız.



- Görme duyu organımızdır. →
- İşitme organımızdır. →
- Dokunma duyu organıdır. →
- Koku alma duyu organıdır. →
- Tat alma duyu organıdır. →

7. Aşağıdakilerden hangisi göz sağlığımızı korumak yapmamız gerekenlerden birisi değildir?

- a. Televizyonu en az 3 metre mesafeden izlemek.
- b. C vitamini içeren yiyecekleri bol bol tüketmek.
- c. Belirli aralıklarla göz doktoruna gitmek.

8. Ceren'e babası konuşan oyuncak bebek almıştır. Ceren oyuncak bebeğin saçlarının rengini öğrenmek için hangi duyu organını kullanır?

- a. Kulak
- b. Deri
- c. Göz

9. Eylül annesinin yaptığı yemeğin ne kadar tuzlu olduğunu anlayamıyor.


Buna göre Eylül'ün hangi duyu organında sorun vardır?

- a.
- b.
- c.

10. Aşağıdakilerden hangisi bütün duyu organlarımızın sağlığı için gereklidir?

- a. Gürültülü ortamlardan uzak durmak.
- b. Telefon ve tablet ile uzun süre oyun oynamamak.
- c. Duyu organlarımızın temizliğine dikkat etmek.

11. Alperen eve girdiğinde mutfaktan gelen balık kokusunu aldı.



Mutfaka girdi. Annesinin yaptığı balığa dokundu. Balık pamuk gibi yumuşacıktı. Daha sonra balığı yedi. Balığın tadı çok güzeldi.

Yukarıdaki anlatıma göre Alperen, kaç tane duyu organını kullanmıştır?

- a. 2
- b. 3
- c. 4

12. Aşağıdaki duyu organlarımızın adını, görevlerini ve duyu organımızın sağlığını korumak için dikkat edeceğimiz hususlardan bir tanesini yazınız.

Adı:.....

Görevi:

Dikkat Edilmesi Gereken Husus:

.....



Adı:.....

Görevi:

Dikkat Edilmesi Gereken Husus:

.....



Adı:.....

Görevi:

Dikkat Edilmesi Gereken Husus:

.....



Adı:.....

Görevi:

Dikkat Edilmesi Gereken Husus:

.....



Adı:.....

Görevi:

Dikkat Edilmesi Gereken Husus:


.....



3. SINIF GENEL DEĞERLENDİRME SINAVI

- 1 -

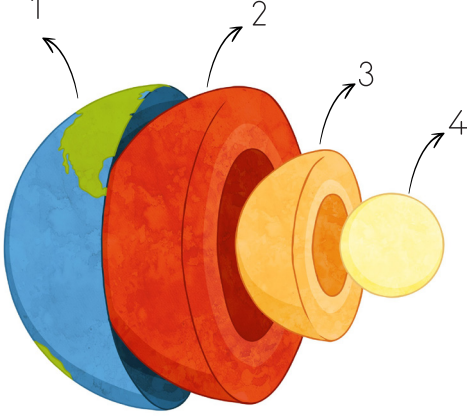
ADI-SOYADI:.....



PUAN

FEN BİLİMLERİ

1.



Yukarıdaki numaralı alanların isimlerini aşağıya yazınız.

- 1-
- 2-
- 3-
- 4-

8

2. Aşağıdaki ifadelerin başına doğru ise (D), yanlış ise (Y) yazınız.

(.....) Dünyanın katmanlarından en sıcak olanı mantodur.

(.....) Yer kabuğu yerine taş küre diyebiliriz.

(.....) İnsanların üzerinde yaşadığı katmanın adı dış çekirdektir.

(.....) Yer kabuğunun **12** da bulunan ve sıcaklık nedeniyle erimiş kayalardan oluşan katman mantodur.

(.....) Okyanuslar, buzullar, göller ve denizler kara katmanında yer alır.

(.....) Su kürenin diğer adı atmosferdir.

3. Dünya modeli üzerinde yeşil rengin mavi renge göre daha az olduğunu gören bir kişi aşağıdaki sonuçlardan hangisine ulaşılır?



- a. Dünya'nın şekli küreye benzer.
- b. Dünya'da suların ka**5**ğı alan karalara göre daha fazladır.
- c. Dünya sadece karalardan oluşur.

4.



Yukarıdaki resimde gösterilen kısımların isimleri hangi seçenekte doğru verilmiştir?

	1	2	3
a.	Hava Katmanı	Su Katmanı	Kara Katmanı
b.	Su Katmanı	Hav 5 Katmanı	Kara Katmanı
c.	Hava Katmanı	Hava Katmanı	Su Katmanı

5. Deniz ve okyanusların tabanı Dünya'mızın hangi katmanına aittir?

- a. Su
- b. Kara
- c. Hava

5

6. Yandaki görselde duyu organları numaralandırılmıştır. Bu numaraları, görevleri verilen duyu organlarının yanlarına yazınız.



- Görme duyu organımızdır. →
- İşitme organımızdır. →
- Dokunma duyu organıdır. →
- Koku alma duyu organıdır. → **10**
- Tat alma duyu organıdır. →

7. Aşağıdakilerden hangisi göz sağlığımızı korumak yapmamız gerekenlerden birisi değildir?

- a. Yakından televizyon izlemek.
- b. C vitamini içeren yiyecekleri bol bol tüketmek. **5**
- c. Belirli aralıklarla göz doktoruna gitmek.

8. Ceren'e babası konuşan oyuncak bebek almıştır. Ceren oyuncak bebeğin saçlarının rengini öğrenmek için hangi duyu organını kullanır?

- a. Kulak
- b. Deri
- c. Göz **5**

9. Eylül annesinin yaptığı yemeğin ne kadar tuzlu olduğunu anlayamıyor.


Buna göre Eylül'ün hangi duyu organında sorun vardır?

- a.  **5**
- b. 
- c. 

10. Aşağıdakilerden hangisi bütün duyu organlarımızın sağlığı için gereklidir?

- a. Gürültülü ortamlardan uzak durmak.
- b. Telefon ve tablet ile **5** süre oyun oynamamak.
- c. Duyu organlarımızın temizliğine dikkat etmek.

11. Alperen eve girdiğinde mutfaktan gelen balık kokusunu aldı.



Mutfaka girdi. Annesinin yaptığı balığa dokundu. Balık pamuk gibi yumuşacıktı. Daha sonra balığı yedi. Balığın tadı çok güzeldi.

Yukarıdaki anlatıma göre Alperen, kaç tane duyu organını kullanmıştır?

- a. 2
- b. 3 **5**
- c. 4

12. Aşağıdaki duyu organlarımızın adını, görevlerini ve duyu organımızın sağlığını korumak için dikkat edeceğimiz hususlardan bir tanesini yazınız.

Adı:..... **1**

Görevi: **2**

Dikkat Edilmesi Gereken Husus:

3

Adı:..... **1**

Görevi: **2**

Dikkat Edilmesi Gereken Husus:

3

Adı:..... **1**

Görevi: **2**

Dikkat Edilmesi Gereken Husus:

3

Adı:..... **1**

Görevi: **2**

Dikkat Edilmesi Gereken Husus:

3

Adı:..... **1**

Görevi: **2**

Dikkat Edilmesi Gereken Husus:

3