


# 3 İLE ÇARPMA İŞLEMİ

● Saksıdaki çiçeklerin sayısını örnekteki gibi bulunuz.

  $1 \times 3 = 3$

 .....  $\times$  ..... = .....

 .....  $\times$  ..... = .....

 .....  $\times$  ..... = .....

 .....  $\times$  ..... = .....

 .....  $\times$  ..... = .....

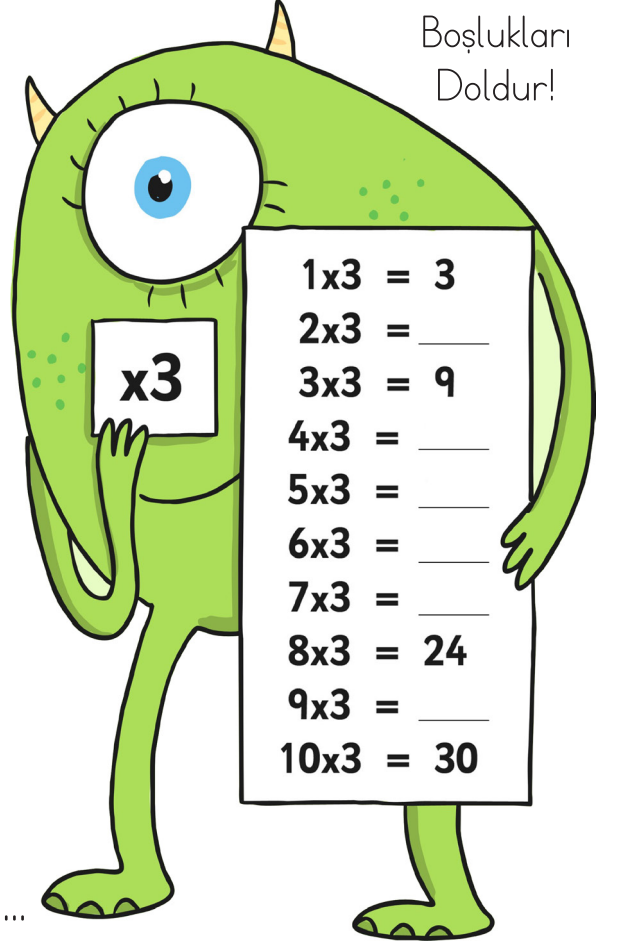
 .....  $\times$  ..... = .....

 .....  $\times$  ..... = .....

 .....  $\times$  ..... = .....

 .....  $\times$  ..... = .....

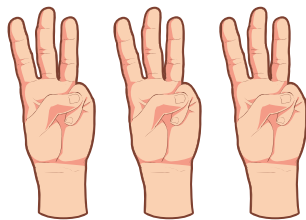
Boşlukları  
Doldur!



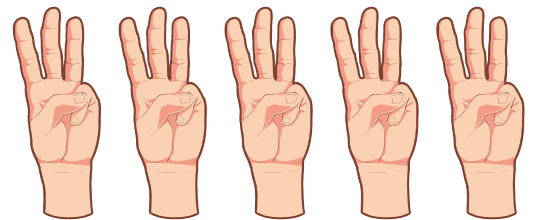
● Aşağıdaki parmakların sayısını çarpma işlemi kullanarak örnekteki gibi bulunuz.



$1 \times 3 = 3$



.....  $\times$  ..... = .....



.....  $\times$  ..... = .....