

# SAYILARI KARŞILAŞTIRMA

**DİKKAT!**

İki basamaklı doğal sayılar, her zaman bir basamaklı doğal sayılardan daha büyüktür.

İki basamaklı doğal sayıları karşılaştırırken, onluğu büyük olan sayı daha büyüktür.

Onluğu aynı olan doğal sayılardan birliği büyük olan sayı daha büyüktür.



























> Büyüktür İşareti



< Küçüktür İşareti

**Dikkat! Timsah her zaman büyük sayıyı yer :)**

● Aşağıdaki forma çiftlerinden küçük olanını boyayınız. Formaların arasındaki kutucuğun içine uygun sembolü örnekteki gibi koyunuz.

 <input type="checkbox"/>		 <input type="checkbox"/>		 <input type="checkbox"/>		 <input type="checkbox"/>	
 <input type="checkbox"/>		 <input type="checkbox"/>		 <input type="checkbox"/>		 <input type="checkbox"/>	
 <input type="checkbox"/>		 <input type="checkbox"/>		 <input type="checkbox"/>		 <input type="checkbox"/>	

● Aşağıdaki forma çiftlerinden büyük olanını boyayınız. Formaların arasındaki kutucuğun içine uygun sembolü örnekteki gibi koyunuz.

 <input type="checkbox"/>		 <input type="checkbox"/>		 <input type="checkbox"/>		 <input type="checkbox"/>	
 <input type="checkbox"/>		 <input type="checkbox"/>		 <input type="checkbox"/>		 <input type="checkbox"/>	