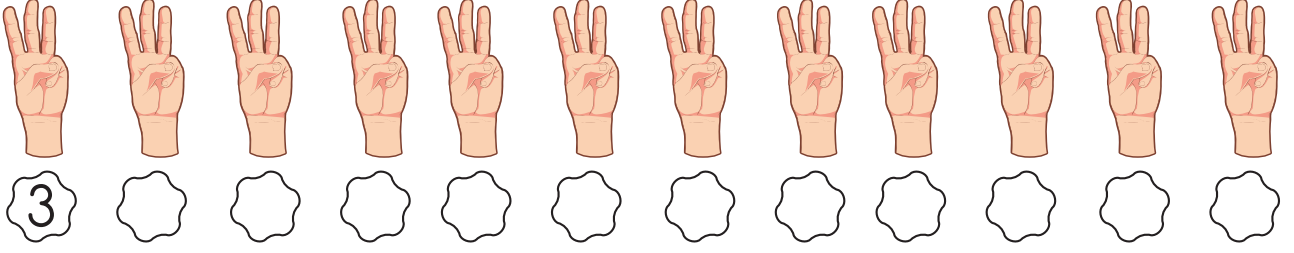


# ÜÇER RİTMİK SAYMA



● Parmakları üçer üçer sayınız.




● Aşağıda tabloyu üçerli sayma yaparak tamamlayınız.

1	2		4	5		7	8		10
11		13	14		16	17		19	20
	22	23		25	26		28	29	
31	32		34	35		37	38		40
41		43	44		46	47		49	50
	52	53		55	56		58	59	

● Ronaldo'yu dünya kupasına üçer üçer ritmik sayarak ulaştırabilir misin?

	3	6	9	14	10	6
11	8	7	12	16	23	20
26	21	18	15	25	19	13
22	24	4	28	31	34	29
35	27	71	37	66	32	73
40	30	33	36	39	44	41
38	43	47	99	42	94	46
62	56	50	48	45	58	91
53	98	95	51	54	57	

	3	4	6	5	3	1
45	6	9	8	30	15	22
17	33	12	10	12	20	28
52	20	15	16	27	30	33
62	22	18	21	24	72	36
87	71	26	19	50	55	39
94	89	28	30	32	34	42
100	101	42	40	51	48	45
103	22	44	46	54	57	