


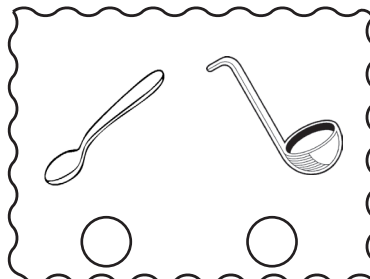




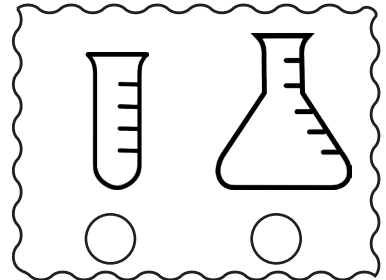










Adım-Soyadım:.....

Aşağıdakilerden hangisi diğerine göre daha fazla sıvı alır? İşaretleyin.



Adım-Soyadım:.....

Aşağıdaki resimleri dikkatlice inceleyiniz. Sonrasında doğru olan cümlelerin başındaki kutucuğa "d", yanlış olanların ise "y" yazınız.



Yukarıdaki şişelerin hepsine yanda verilen sürahi ile birer sürahi su koyulmuştur. Su dolduruluktan sonra şişelerdeki su seviyesi yukarıda işaretlenmiştir.

- Hepsi tamamen su doldurulduğunda en fazla 2. şişe su alır.
- Şişelerin tamamında su miktarı birbirine eşittir.
- 4. şişe ile sürahi aynı miktarda su alır.
- Şu anda en fazla su 4. şişede bulunmaktadır.

Tamamen dolu olduklarında en çok sıvı alandan en az sıvı alana doğru şişeleri sıralayınız.



Tamamen dolu olduklarında en çok sıvı alandan en az sıvı alana doğru kapları sıralayınız.

