
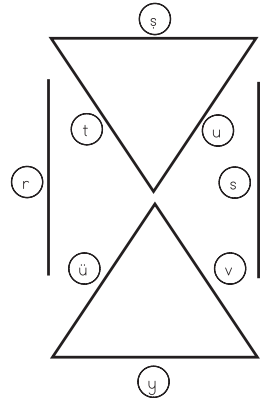
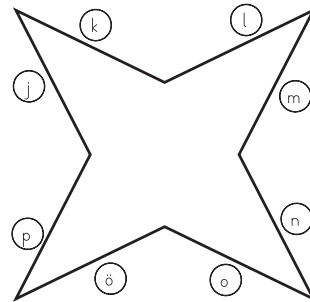
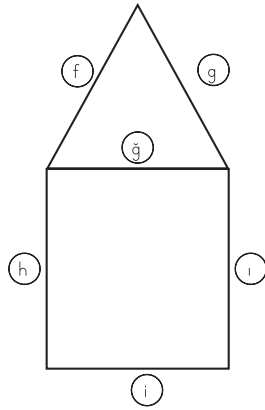
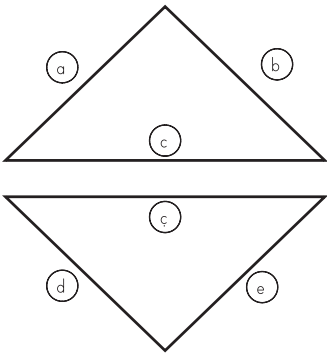


● Aşağıda verilen noktali zemin üzerinde mavi renkli 3 tane yatay, kırmızı renkli 3 tane dikey parçası ve yeşik renkli 3 tane eğik doğru modeli çiziniz.



● Şekillerdeki doğru modellerinin harflerle belirtilen adlarını tabloya yazınız.



| Doğrular | Adı |
|----------|-----|
| Yatay    |     |
| Dikey    |     |
| Eğik     |     |

| Doğrular | Adı |
|----------|-----|
| Yatay    |     |
| Dikey    |     |
| Eğik     |     |

| Doğrular | Adı |
|----------|-----|
| Yatay    |     |
| Dikey    |     |
| Eğik     |     |

| Doğrular | Adı |
|----------|-----|
| Yatay    |     |
| Dikey    |     |
| Eğik     |     |