


ÖRÜNTÜLER

● Aşağıdaki örüntülerin kuralını bulup eksik adımlarını tamamayınız. Örüntünün kuralını altına yazınız.




Örüntünün Kuralı:.....



Örüntünün Kuralı:.....



Örüntünün Kuralı:.....



Örüntünün Kuralı:.....



Örüntünün Kuralı:.....

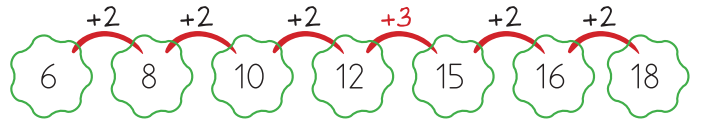


Örüntünün Kuralı:.....



Örüntünün Kuralı:.....

● Aşağıdaki örüntülerde kuralı bozan sayıyı bulup örnekteki gibi yazınız.



Kuralı Bozan Sayı: 15 Olması Gereken: 14



Kuralı Bozan Sayı: ___ Olması Gereken: ___



Kuralı Bozan Sayı: ___ Olması Gereken: ___



Kuralı Bozan Sayı: ___ Olması Gereken: ___



Kuralı Bozan Sayı: ___ Olması Gereken: ___



Kuralı Bozan Sayı: ___ Olması Gereken: ___



Kuralı Bozan Sayı: ___ Olması Gereken: ___



Kuralı Bozan Sayı: ___ Olması Gereken: ___



Kuralı Bozan Sayı: ___ Olması Gereken: ___